



ESTADO DE SANTA CATARINA
MUNICÍPIO DE JABORÁ
SECRETARIA MUNICIPAL DE EDUCAÇÃO CULTURA E DESPORTO
ESCOLA BÁSICA MUNICIPAL ALBERTO BORDIN
PROFESSORA: JULIANA PAULA TOMASI E ANDRÉ MARTINAZZO

ALUNO: _____ 6º ANO__

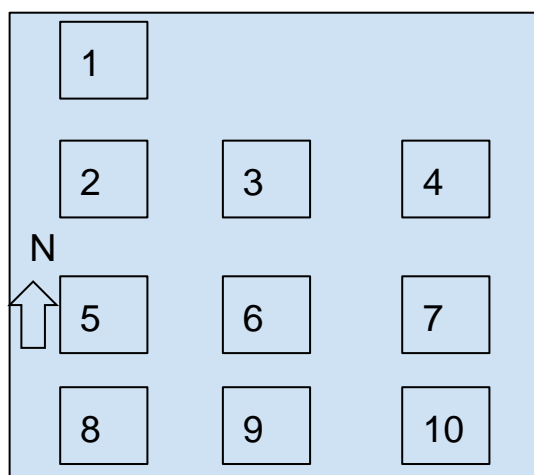
11ª ETAPA DE ATIVIDADES PEDAGÓGICAS NÃO PRESENCIAIS DO ENSINO FUNDAMENTAL, DE GEOGRAFIA DATA: 12/07 A 21/07.

AVALIAÇÃO DE GEOGRAFIA

QUESTÃO 01: Uma das principais formas utilizadas pelos seres humanos para se localizar no espaço geográfico foram os pontos de referência. Escreva o que são pontos de referência e cite exemplos.

QUESTÃO 02: A localização foi aprimorada e desenvolvida com a observação de elementos naturais como os astros e estrelas. Explique como funciona a localização pelo Sol.

QUESTÃO 03: Observe a imagem abaixo e responda:



Imagine que existe uma rosa dos ventos sobre o número 6, em qual direções cardeais ou colaterais estão os seguintes números:

1	3	4	5	7
10	9	2	8	

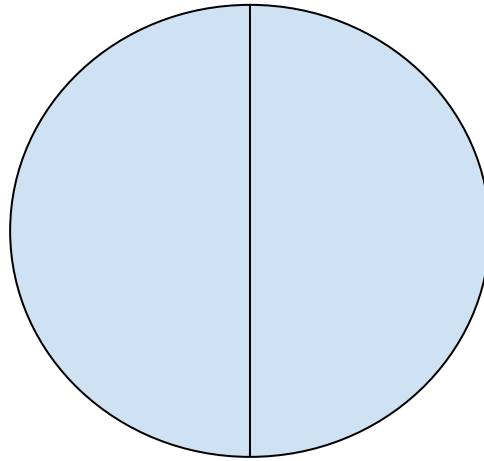
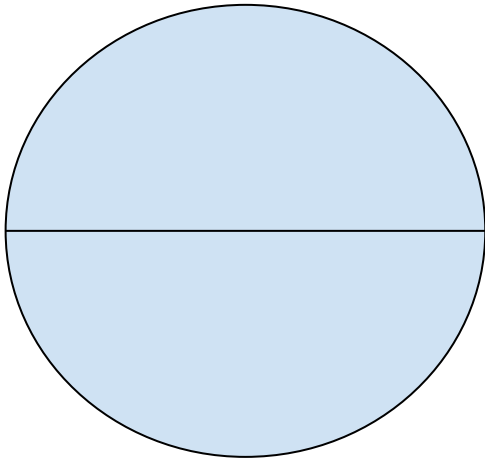
QUESTÃO 04:

Complete a figura da rosa dos ventos com os pontos cardeais e colaterais.



QUESTÃO 05: Quais são os principais instrumentos e equipamentos que os seres humanos utilizavam e utilizam para se localizar no espaço?

QUESTÃO 06: Escreva nos esquemas abaixo o nome dos hemisférios e das linhas imaginárias que os divide:



QUESTÃO 07: Defina o que são coordenadas geográficas.

QUESTÃO 08: Relacione as palavras a seguir com suas respectivas definições.

I. Meridianos

II. Latitude

III. Paralelos

IV. Coordenada geográfica

V. Longitude

a) Distância em graus de qualquer ponto na superfície terrestre em relação à linha do Equador. ()

b) Informação que nos permite localizar com exatidão um lugar. ()

c) Distância em graus de qualquer ponto na superfície terrestre em relação ao Meridiano de Greenwich. ()

d) Linhas imaginárias horizontais que circundam o planeta. ()

e) Linhas imaginárias verticais traçadas do Polo Norte ao Polo Sul. ()

QUESTÃO 09: Sobre Latitude e Longitude assinale as alternativas corretas:

() A linha do equador é uma Latitude.

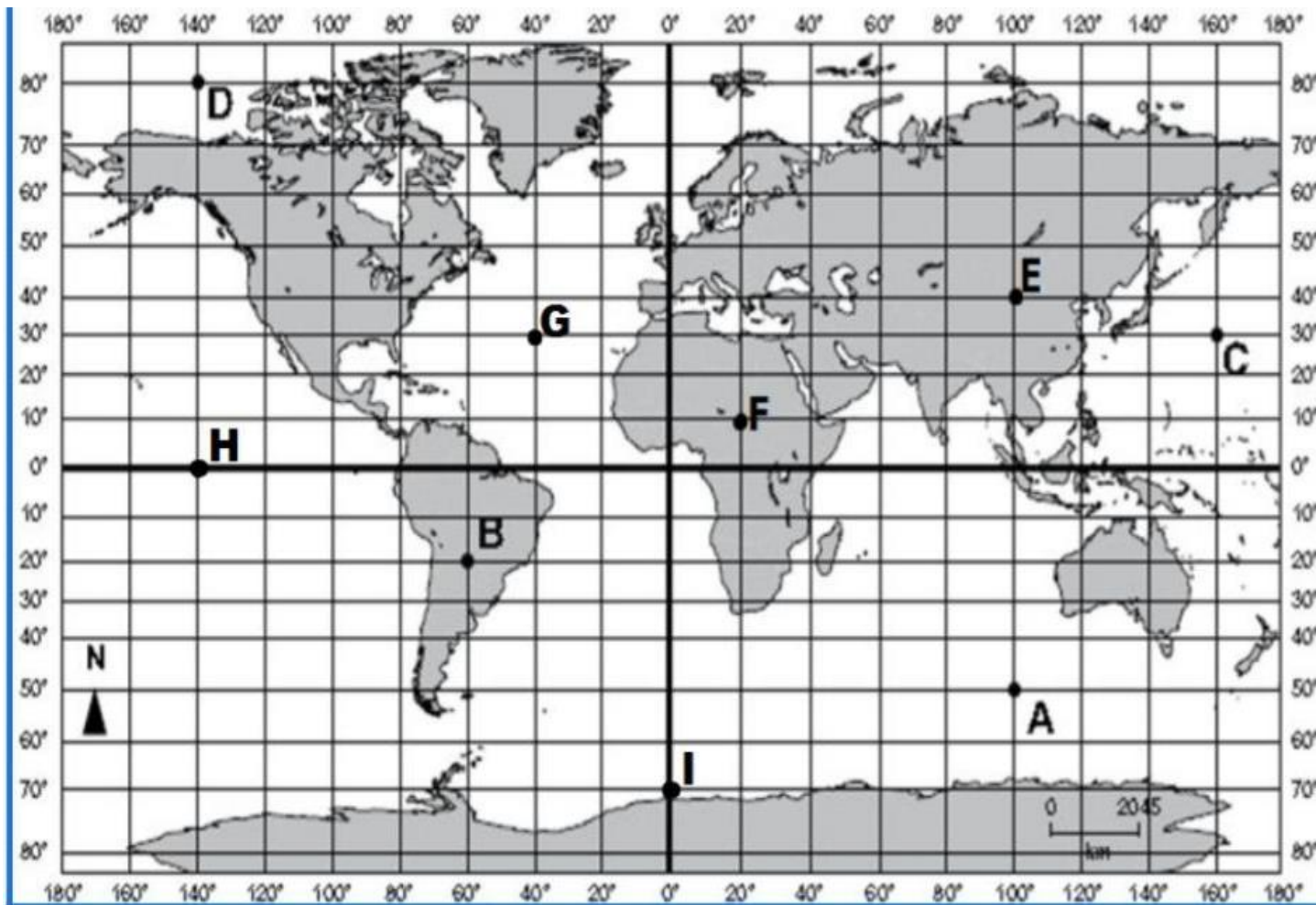
() O Meridiano de Greenwich é uma longitude.

() Os trópicos de Capricórnio e Câncer são longitudes.

() As linhas são as latitudes e as colunas as longitudes.

() A combinação entre as latitudes e as longitudes não ajuda em nada na localização em qualquer ponto da Terra.

QUESTÃO 10: Localize na imagem os pontos e as suas respectivas Coordenadas Geográficas (latitude/longitude). Logo após, preencha o quadro colocando qual é a latitude e se está localizado no hemisfério Norte ou Sul, e qual é a longitude e se está localizado no hemisfério Leste ou Oeste.



- Ponto A latitude _____, longitude _____.
- Ponto B latitude _____, longitude _____.
- Ponto C latitude _____, longitude _____.
- Ponto D latitude _____, longitude _____.
- Ponto E latitude _____, longitude _____.
- Ponto F latitude _____, longitude _____.
- Ponto G latitude _____, longitude _____.
- Ponto H latitude _____, longitude _____.
- Ponto I latitude _____, longitude _____.