



ESTADO DE SANTA CATARINA

MUNICÍPIO DE JABORÁ

SECRETARIA MUNICIPAL DE EDUCAÇÃO CULTURA E DESPORTO

ESCOLA BÁSICA MUNICIPAL ALBERTO BORDIN

14º ETAPA DE ATIVIDADES PRESENCIAIS E/OU NÃO PRESENCIAIS

**TURMA: 1º ANO
ENSINO FUNDAMENTAL**

PROFESSORAS:

JANETE CARMEN BAZZO TONIELLO

MARILIA PAGANINI

VERA LUCIA SANTI



ALUNO (A): _____

QUERIDOS ALUNOS

ESTAMOS INICIANDO A 14ª ETAPA DAS ATIVIDADES QUE PREPARAMOS COM MUITO CARINHO PARA VOCÊS.

PEDIMOS QUE REALIZEM AS ATIVIDADES COM CAPRICHOS, NÃO FAZENDO TUDO DE UMA VEZ, SEGUINDO AS DATAS QUE ESTÃO NA APOSTILA. E AO FINAL TRAZÊ-LA PARA A ESCOLA PARA A PROFESSORA CORRIGIR.

LEMBREM-SE QUE QUEM DEVE FAZER AS ATIVIDADES É VOCÊ (ALUNO), OS PAIS APENAS DEVEM AUXILIAR NAS DIFICULDADES.


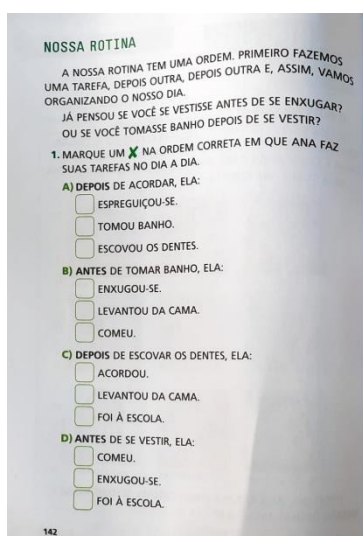
NOS LIVROS DIDÁTICOS SÓ DEVEM SER REALIZADAS AS ATIVIDADES DAS PÁGINAS QUE A PROFESSORA PEDIR.

BOM TRABALHO!!

NOSSO DIA A DIA


O NOSSO DIA COMEÇA QUANDO ACORDAMOS. QUASE SEMPRE FAZEMOS AS MESMAS COISAS AO ACORDAR: ABRIMOS OS OLHOS, NOS ESPREGUIÇAMOS, LEVANTAMOS DA CAMA E COMEÇAMOS A NOS PREPARAR PARA AS TAREFAS DO DIA.

1. OBSERVE AS IMAGENS NO LIVRO DE CIÊNCIAS E REALIZ AS ATIVIDADES DAS PÁGINAS 141, 142, 143 E 144.



2. LEIA O TEXTO ABAIXO E NUMERE DE ACORDO COM A ORDEM:

OLÁ EU SOU O TONINHO E O MEU DIA TEM SEMPRE UMA ROTINA. E O SEU? SERÁ QUE VOCÊ É CAPAZ DE DESCOBRIR A ORDEM EM QUE FAÇO AS COISAS? NUMERE.



3. AGORA ESCREVA DE ACORDO COM A ORDEM, O QUE O TONINHO FAZ DURANTE O DIA:

- 1 - _____
- 2 - _____
- 3 - _____
- 4 - _____
- 5 - _____
- 6 - _____

JABORÁ, 31 DE AGOSTO DE 2021.

TERÇA-FEIRA

NOME COMPLETO: _____

1. RESOLVA AS ADIÇÕES PINTANDO OS CÍRCULOS E USANDO CORES DIFERENTES PARA CADA NÚMERO:

$7 + 2 =$		○ ○ ○ ○ ○ ○ ○ ○ ○
-----------	--	-------------------

$2 + 6 =$		○ ○ ○ ○ ○ ○ ○ ○ ○
-----------	--	-------------------

$1 + 1 =$		○ ○ ○ ○ ○ ○ ○ ○ ○
-----------	--	-------------------

$9 + 1 =$		○ ○ ○ ○ ○ ○ ○ ○ ○ ○ ○
-----------	--	-----------------------

$6 + 3 =$		○ ○ ○ ○ ○ ○ ○ ○ ○ ○ ○
-----------	--	-----------------------

$5 + 2 =$		○ ○ ○ ○ ○ ○ ○ ○ ○ ○ ○
-----------	--	-----------------------

$3 + 3 =$		○ ○ ○ ○ ○ ○ ○ ○ ○ ○ ○
-----------	--	-----------------------

$4 + 4 =$		○ ○ ○ ○ ○ ○ ○ ○ ○ ○ ○
-----------	--	-----------------------

2. FAZER AS ATIVIDADES NO LIVRO DE MATEMÁTICA 80, 81, 82 E 83.

7 SETE



SETE DEDOS LEVANTADOS



SETE BALÕES



SETE CARRINHOS

OS ELEMENTOS NÃO FORMAM NENHUM DECORADO EM PRODUÇÃO DE TATIANHO FREIRE SI

1. CUBRA OS PONTILHADOS E CONTINUE ESCRREVENDO O 7:



80 OITENTA

2. FAÇA UM X NA COLUNA FORMADA POR SOMENTE 6 (SEIS) QUADRINHOS PINTADOS.

FAÇA UM + NA COLUNA FORMADA POR 7 (SETE) QUADRINHOS PINTADOS.



AGORA É COM VOCÊ!

CANTE COM OS COLEGAS!

A BARATA DIZ QUE TEM

A BARATA DIZ QUE TEM SETE SAIAS DE FILO É MENTIRA DA BARATA ELA TEM É UMA SÓ! HÁ, HÁ, HÁ! HÓ, HÓ, HÓ! ELA TEM É UMA SÓ! [...]

CANTIGA POPULAR




AGORA, RESPONDA:


NA CANTIGA, QUANTAS SAIAS A BARATA TEM? _____

OITENTA E UM 81


8 OITO




OITO DEDOS LEVANTADOS



OITO CORREDORAS DISPUTANDO PROVA DE ATLETISMO NOS JOGOS OLÍMPICOS DE 2016 RIO DE JANEIRO




OITO ATLETAS DE NADO SINCRONIZADO PARTICIPANTES DOS JOGOS OLÍMPICOS DE 2016 RIO DE JANEIRO




OITO REMADORES EM C OMPETIÇÃO UNIVERSITÁRIA, BOSTON, ESTADOS UNIDOS 2016

1. CUBRA OS PONTILHADOS E CONTINUE ESCRREVENDO O 8:




82 OITENTA E DOIS


2. MARQUE COM UM X O ANIMAL QUE POSSUI EXATAMENTE 8 (OITO) MEMBROS.



ESTRELA-DO-MAR AZUL




POLVO



ESTRELA-DO-MAR

3. MARQUE COM:

- A FAIXA QUE TEM SOMENTE 6 (SEIS) PARTES COLORIDAS.
- A FAIXA QUE TEM SOMENTE 7 (SETE) PARTES COLORIDAS.
- A FAIXA QUE TEM 8 (OITO) PARTES COLORIDAS.




OITENTA E TRÊS 83

JABORÁ, 01 DE SETEMBRO DE 2021.

QUARTA-FEIRA

NOME COMPLETO: _____

1. COM AJUDA LEIA O TEXTO ABAIXO:



O M ESTÁ NO MACACO
E NA MEIA DA MENINA
NA MANGA E NO MAMÃO
E NA MALA DA MARINA

2. CIRCULE AS PALAVRAS QUE INICIAM COM M.

3. COPIE NA LINHA AS PALAVRAS QUE VOCÊ CIRCULOU E DESENHE LOGO ABAIXO:

_____	_____	_____

_____	_____	_____

4. NO LIVRO DE LÍNGUA PORTUGUESA LER E FAZER AS ATIVIDADES DAS PÁGINAS 68 E 69.

COM QUE LETRA?

LETRA M m

1. NA FESTA DE ANIVERSÁRIO, VAI SER SERVIDA UMA DELICIOSA SALADA DE FRUTAS.

- CIRCULE AS FRUTAS QUE PODEM FAZER PARTE DESSA SALADA.
- AGORA SUBLINHE NA LISTA OS NOMES DAS FRUTAS QUE VOCÊ CIRCULOU.

LISTA DE INGREDIENTES

- ✓ BANANA
- ✓ ABACATE
- ✓ LARANJA
- ✓ CAJU
- ✓ MAMÃO
- ✓ MAÇÃ

2. LEIA A PALAVRA EM DESTAQUE. RECORTE A FIGURA DA PÁGINA 261 E COLE NO QUADRO. DEPOIS ESCREVA ESSA PALAVRA.

COLE AQUI

MAMÃO

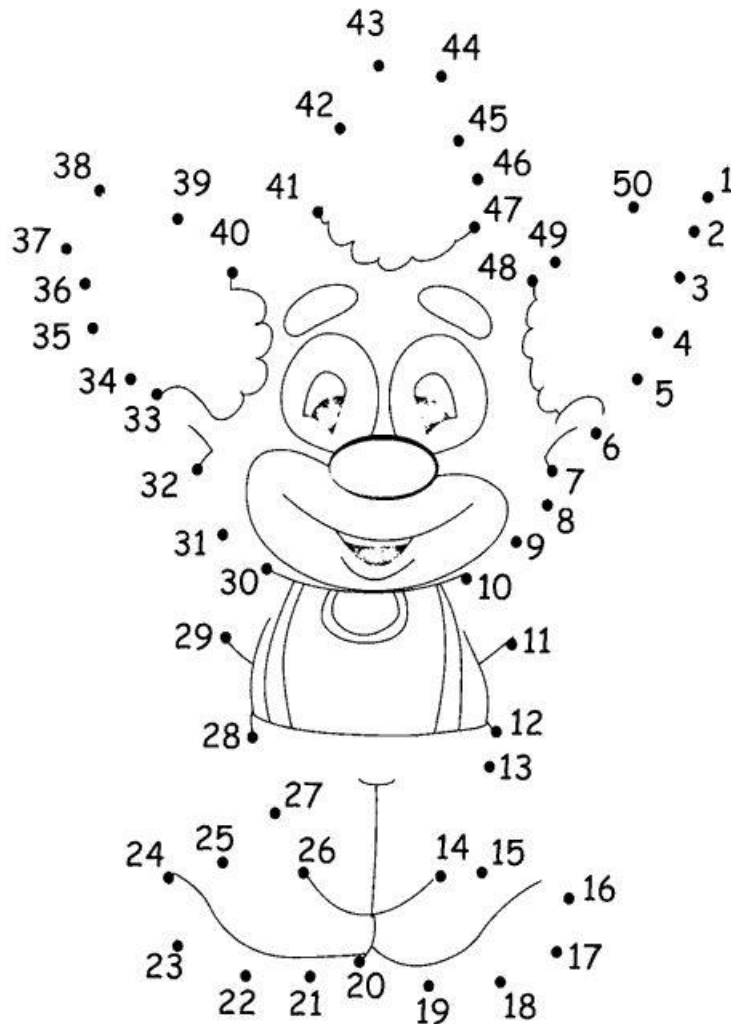
3. CIRCULE AS PALAVRAS ESCONDIDAS NOS NOMES DAS FRUTAS. DEPOIS ESCREVA AS PALAVRAS.

MAMÃO MEXERICA MELÃO

4. MUDE UMA LETRA E FORME OS NOMES DAS FIGURAS.

MULA MÃO

1. LIGUE OS NÚMEROS NA SEQUÊNCIA E DESCUBRA O DESENHO:



1) Complete os quadros com os seus horários.



Acordo às _____ horas.



Tomo café às _____ horas.



Brinco às _____ horas.



Vou para a escola às _____ horas.



Escovo os dentes às _____ horas.



Tomo banho às _____ horas.

2. NO LIVRO DE CIÊNCIAS LER E FAZER AS ATIVIDADES DAS PÁGINAS 148 E 149.

PERÍODOS DO DIA

NOSSO DIA PODE SER DIVIDIDO EM TRÊS PERÍODOS.

MANHÃ:



QUANDO O DIA JÁ ESTÁ CLARO E AINDA NÃO ALMOÇAMOS.

TARDE:



QUANDO JÁ ALMOÇAMOS E AINDA ESTÁ CLARO.


NOITE:



QUANDO ESCURECE.

148

PODEMOS DIVIDIR AS NOSSAS TAREFAS DE ACORDO COM O PERÍODO DO DIA.



DE MANHÃ, EU VOU À ESCOLA. DE TARDE, FAÇO MANEIO E, DE NOITE, FICO COM MINHA FAMÍLIA EM CASA.

E VOCÊ, O QUE FAZ DE MANHÃ, DE TARDE E DE NOITE?

1. ESCREVA UMA TAREFA QUE VOCÊ FAZ EM CADA UM DOS PERÍODOS DO DIA.


MANHÃ	TARDE	NOITE

2. COMPLETE AS FRASES COM OS PERÍODOS DA SUA ROTINA.

- EU VOU À ESCOLA _____
- EU BRINCO EM CASA _____
- EU DURMO _____
- EU FAÇO MINHA LIÇÃO _____

149

JABORÁ, 3 DE SETEMBRO DE 2021.
SEXTA-FEIRA



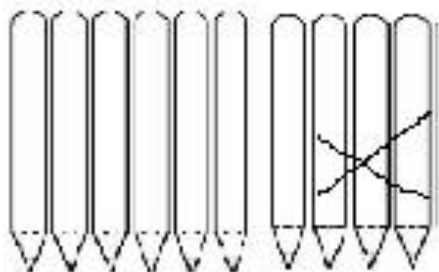
JABORÁ, 06 DE SETEMBRO DE 2021.

SEGUNDA-FEIRA

NOME COMPLETO: _____

1. LEIA COM AJUDA OS PROBLEMAS E RESOLVA DESENHANDO. SIGA O EXEMPLO:

RITA TINHA 10 LÁPIS, MAS PERDEU 3. QUANTOS RESTARAM?



$$10 - 3 = 7$$



SEU JOÃO LEVOU 9 BALÕES PARA VENDER NA PRAÇA. NO MEIO DO CAMINHO 2 ESTOURARAM. QUANTOS BALÕES SOBRARAM?




A TURMA DO 1º ANO TEM 15 MENINOS. MAS HOJE, 5 FALTARAM. QUANTOS MENINOS FORAM PARA A ESCOLA?




TIAGO COMPROU 6 BRIGADEIROS. ELE JÁ COMEU 4. QUANTOS BRIGADEIROS AINDA RESTAM?




2. CONTE OS DESENHOS E RESOLVA AS SUBTRAÇÕES (CONTINHAS DE MENOS):




$9 - 2 = 7$




$6 - 3 = \dots\dots\dots$




$9 - 4 = \dots\dots\dots$



$6 - 1 = \dots\dots\dots$




$9 - 1 = \dots\dots\dots$



$8 - 3 = \dots\dots\dots$

3. PINTE SOMENTE AS FIGURAS QUE COMECEM COM M DEPOIS ESCREVA OS NOMES DAS FIGURAS ABAIXO:



JABORÁ, 08 DE SETEMBRO DE 2021.

QUARTA-FEIRA

NOME COMPLETO: _____

- LEIA COM AJUDA NO LIVRO DE CIÊNCIAS A PÁGINA 151 E FAÇA AS ATIVIDADES NAS PÁGINAS 152, 153 E 154.

ONTEM, HOJE E AMANHÃ

O DIA QUE ESTÁ SENDO VIVIDO AGORA É CHAMADO DE HOJE. UM DIA ANTES DE HOJE É CHAMADO DE ONTEM. UM DIA DEPOIS DE HOJE É CHAMADO DE AMANHÃ.

ONTEM EU FUI À MEDICA. HOJE EU ESTOU NA ESCOLA. AMANHÃ EU VOU JANTAR NA CASA DA MINHA PRIMA.

ONTEM É O DIA ANTERIOR A HOJE.
HOJE É O DIA ATUAL.
AMANHÃ É O DIA POSTERIOR A HOJE.

- CONVERSE COM O COLEGA SENTADO AO SEU LADO DIREITO E PERGUNTE O QUE ELE FEZ ONTEM À NOITE.
- CONVERSE COM O COLEGA SENTADO AO SEU LADO ESQUERDO E PERGUNTE O QUE ELE PRETENDE FAZER AMANHÃ À NOITE.

151

É DIA DE FESTA!

TODOS OS DIAS VIVEMOS EXPERIÊNCIAS NOVAS. CADA DIA É NOVO NA NOSSA HISTÓRIA.

MAS HÁ UM DIA QUE É MUITO ESPECIAL: O DIA DO NOSSO ANIVERSÁRIO! ESSA DATA CORRESPONDE AO DIA E MÊS DO NOSSO NASCIMENTO.

E ELA SE REPETE TODOS OS ANOS.

O ANIVERSÁRIO É A COMEMORAÇÃO DE MAIS UM ANO DE VIDA!

- QUAL A DATA DO SEU ANIVERSÁRIO?
- NESTE ANO, EM QUE DIA DA SEMANA CAI SEU ANIVERSÁRIO? PROCURE NO CALENDÁRIO O MÊS E O DIA E DEPOIS VEJA QUAL É O DIA DA SEMANA.
- QUANTOS ANOS VOCÊ TEM?
- DESENHE AS VELINHAS QUE FALTAM PARA O NÚMERO QUE CORRESPONDE À SUA IDADE. APROVEITE PARA COLORIR O BOLO!

154

QUE DIA DA SEMANA É HOJE?

VOCÊ SABE OS NOMES DOS DIAS DA SEMANA? E A ORDEM DOS DIAS?

O CALENDÁRIO MARCA OS DIAS, AS SEMANAS E OS MESES DO ANO.

- A SEMANA É FORMADA POR QUANTOS DIAS?

COSTUMAMOS DIZER QUE OS DIAS DA SEMANA SÃO OS DIAS EM QUE VAMOS À ESCOLA. OS DIAS DO FIM DE SEMANA SÃO AQUELES EM QUE NÃO TEMOS AULAS.
- OBSERVE O QUADRO A SEGUIR E FAÇA O QUE SE PEDE.

DOMINGO	SEGUNDA-FEIRA	TERÇA-FEIRA	QUARTA-FEIRA	QUINTA-FEIRA	SEXTA-FEIRA	SÁBADO
---------	---------------	-------------	--------------	--------------	-------------	--------

MARQUE UM X NOS DIAS DA SEMANA EM QUE VOCÊ VEM À ESCOLA.

 - PINTE DE AZUL O DIA DA SEMANA QUE É HOJE.
 - PINTE DE VERMELHO OS DIAS DO FINAL DE SEMANA.
- QUE DIAS DA SEMANA VOCÊ NÃO VAI À ESCOLA?
- COMPLETE COM OS NOMES DOS DIAS DA SEMANA:


```

            graph TD
            A[SE HOJE É] --> B[ONTEM FOI]
            A --> C[AMANHÃ SERÁ]
            
```
- PINTE O NÚMERO DE DIAS QUE FALTAM PARA CHEGAR O SÁBADO.

1	2	3	4	5
---	---	---	---	---

152 153

JABORÁ, 09 DE SETEMBRO DE 2021.

QUINTA-FEIRA

NOME COMPLETO: _____

TRABALHO AVALIATIVO DE CIÊNCIAS E LÍNGUA PORTUGUESA

2. DESENHE DUAS TAREFAS QUE VOCÊ FAZ EM CADA UM DOS PERÍODOS DO DIA:

MANHÃ	TARDE	NOITE

3. ESCREVA AS TAREFAS QUE VOCÊ REALIZA NOS PERÍODOS:

MANHÃ

TARDE

NOITE

4. FAÇA UM DESENHO ILUSTRANDO O DIA E A NOITE:

DIA



NOITE



JABORÁ, 10 DE SETEMBRO DE 2021.
SEXTA-FEIRA

