



ESTADO DE SANTA CATARINA
MUNICÍPIO DE JABORÁ
SECRETARIA MUNICIPAL DE EDUCAÇÃO, CULTURA E DESPORTO
ESCOLA BÁSICA MUNICIPAL ALBERTO BORDIN

8ª ETAPA DE ATIVIDADES PRESENCIAIS E/OU NÃO PRESENCIAIS

31 DE MAIO ATÉ 11 DE JUNHO

SÉRIE: 4º ANO 1,2 E 3
ENSINO FUNDAMENTAL



ALUNO (A): _____

PROFESSORA: _____

Atividades de Língua Portuguesa e Ensino Religioso

- Leia com atenção os textos abaixo:

CADA UM TEM SEU JEITO

Quando eu olho no espelho, vejo como somos diferentes. Sou de um jeito e meus colegas são de outro.

Tenho um nome, uma família, a casa como eles, só que diferentes. Cada um de meus colegas de classe tem tudo o que eu tenho.

Somos todos iguais, mas tão diferentes.

O nome é diferente; a família, a casa, a história, os gostos, as amizades, as preferências são diferentes. Cada um tem seu jeito de viver, de ver, de gostar, de pensar, de acreditar.

O jeito de cada um é diferente, mas somos todos iguais, muito iguais.


Por isso, respeitar as diferenças é respeitar a si próprio.

Viva a igualdade! Viva a diferença!

Edson Gabriel Garcia. O jeito de cada um: iguais e diferentes
São Paulo: FTD, 2001. p.. 44-45



EMPATIA, um exercício que se deve praticar sempre... até que faça parte da gente.



Certa vez, ouvi uma história em que o morcego da história chega no pedaço e a bicharada vai dar as boas-vindas. Mas, sempre que conversavam, o morcego falava cada coisa estranha... O céu ficava embaixo, e a montanha em cima, por exemplo. Ele “enxergava tudo do jeito errado”. Pelo menos era isso que os outros animais do zoológico achavam.

O morcego era mal compreendido pelos outros animais, só porque via o mundo de uma forma diferente. Os animais do zoo, sem compreenderem o morcego, diziam que ele era bobo, louco e, portanto, um tanto perigoso. Para virar a situação, o morcego coloca os animais de cabeça para baixo para poderem brincar. E quando

finalmente se colocam no lugar do morcego, eles mudam de opinião.

1-Responda de acordo com o texto:

a) Crie um título para esta história.

b) Marque com um X o assunto do texto:

- () Criticar a diferença do outro.
() Respeitar a diferença do outro

c) Porque o morcego via o mundo de forma diferente?

2) **Você já se colocou no lugar do outro em alguma situação? Comente:**

- Hoje vamos estudar sobre o **SINGULAR** e o **PLURAL** das palavras:

NÚMERO

(singular / plural)



um gato



uns gatos

gato

Está no número **singular** e designa um só elemento.

gatos

Está no número **plural** e designa vários elementos.

Para formar o plural, as palavras terminadas em :

al
el
il
ol
ul

→ mudam o **l** para **is**;

Ex.: animal - anim**ais**

Ex.: papel - pap**éis**

Ex.: sol - s**óis**

Ex.: azul - az**uis**

n, r,
s ou z

→ acrescenta-se **es**;

Ex.: perdiz - perdiz**es**

m

→ mudam o **m** para **ns**;

Ex.: pinguim - pinguin**s**

il

→ muda o **il** para **is** (se o **il** for tónico); e muda o **il** para **eis** se o **il** não for tónico.

Ex.: funil - fun**is**; difícil - difíce**is**

ão

→ acrescenta-se **s** ou mudam o **ão** para **ães** ou **ões**.

Ex.: irmão - irmão**s** pão - pão**s** melão - melão**s**

Masculino		Feminino	
<i>Singular</i>	<i>Plural</i>	<i>Singular</i>	<i>Plural</i>
meu teu seu	meus teus seus	minha tua sua	minhas tuas suas
nosso vosso seu	nostros vossos seus	noossa vossa sua	noossas vossas suas

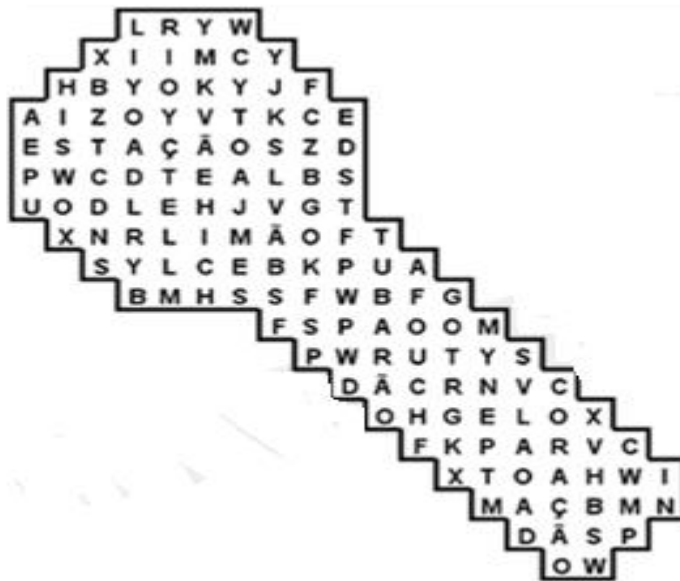
- Resolva a atividade abaixo:

Trocando al por ais		Trocando ol por ois	
O real	Os re ais	O lençol	Os lenç ois
O animal		O farol	
O jornal		O girassol	
O sinal		O anzol	
Trocando il por is		Trocando il por eis	
O barril	Os barr is	O réptil	Os rept eis
O funil		O fóssil	
O fuzil		O míssil	
O canil		O projétil	

- Encontre no caça-palavras, quatro substantivos terminados em ão que fazem o plural em ãos:



- Encontre no caça-palavras, quatro substantivos terminados em ão, que fazem plural em ões:



- Complete as frases com o plural dos substantivos destacados:

a) Alugamos um barril para guardar as bebidas da festa. Deveríamos ter alugado quatro _____ .

b) O policial carregava um fuzil. Os _____ só devem usados pelas pessoas autorizadas.

c) Na cidade há vários _____ , mas o canil “Lar dos Animais” é o melhor de todos.

d) O álbum de fotografias traz boas recordações de toda a família. Os _____ devem ser guardados com muito carinho.

e) O ônibus está muito cheio. O número de passageiros nos _____ atualmente tem se tornado um grande problema.

f) A noiva ganhou um belo anel. As _____ esperam ansiosas por este momento .

g) A couve-flor fica muito saborosa em saladas. As _____ devem ser fervidas em água com sal.

h) O porão da casa é um bom lugar para fazer um lugar secreto, tipo um clube das crianças. Os _____ geralmente são usados para guardar coisas velhas.

i) O pão é um alimento muito consumido. Os _____ são muito gostosos.

j) O beija-flor é um belo pássaro. Os _____ colorem os nossos jardins.

k) Comer cachorro-quente já é um hábito dos brasileiros. Porém os _____ não devem substituir o almoço ou jantar.

Dia 01 de Junho

Atividades de História



- Pegue o seu livro de História
- Hoje é dia de fazer leitura sobre o que estudamos no 1º trimestre: **você somente irá ler os textos, não responderá nenhuma pergunta, certo?** Então vamos começar lendo nas páginas:12, 13, 14, 15, 17, 18, 19 e 20

Atividades de Matemática

Meu primo comprou uma televisão e vai pagar em 3 prestações iguais. A primeira prestação foi de R\$ 300,00. Qual é o valor total da televisão?

Cálculo

Resposta



Para pagar a televisão, meu primo tinha guardado R\$ 1.022,00. Quanto ele recebeu de troco?

Cálculo

Resposta



Meu pai comprou um terreno. Ele deu de entrada R\$500,00 e vai pagar mais 2 prestações de R\$595,00. Qual é o preço total desse terreno?

Cálculo


Resposta





Comprando a prazo.

Ana pediu de Natal uma bicicleta. Seu pai foi fazer uma pesquisa de preço em duas lojas diferentes:

Loja Bom Preço	Loja Amorosa
5 vezes de R\$ 47,00	7 vezes de R\$ 36,00
	

Qual é o preço total da bicicleta na loja Bom Preço?

Cálculo

Resposta

Qual é o preço total na loja Amorosa?

Cálculo

Resposta

Em qual das lojas a bicicleta está mais barata?

De quantos reais é a diferença do preço da bicicleta entre as duas lojas?

Cálculo

Resposta

ATENÇÃO!

ATENÇÃO 4º ANO!



- Pegue seu livro de Matemática e responda as questões da página 64 (na letra c não precisa fazer a expressão numérica) e somente a primeira questão da página 65.

Dia 02 de Junho

Atividades de Língua Portuguesa

No seu livro de Língua Portuguesa: leia as páginas 82 e 83. Depois, responda as questões das páginas 84 e 85 e também as páginas 88 (a questão 2 não precisa responder no livro, apenas leia e pense na resposta) e a 89. Capriche na leitura!!!



Atividades de Geografia

ATENÇÃO...ATENÇÃO 4º ANO

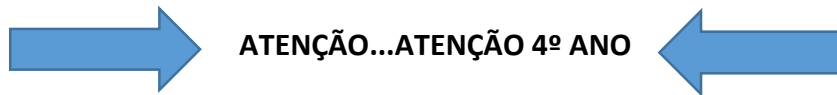
- Na aula de Geografia de hoje, você deverá colorir o mapa do Brasil, mas de acordo com as 5 regiões que o compõe. Pegue seu livro de Geografia e siga até a página 216, lá você encontrará um mapa para ajudar na pintura correta.




REGIÕES DO BRASIL

- Aproveite para ler e resolver as páginas 217 e 218.


Atividades de Matemática



- Pegue o seu de Matemática , siga até as páginas 60, 61, 62 e 63 e resolva os problemas com muita atenção. se tiver dúvidas, peça ajuda.

Atividades de Ciências



- Na aula de Ciências de hoje, pegue seu livro , pois vamos ler sobre **AS MISTURAS** (assunto estudado no 1º trimestre, mas que hoje vamos retomar com leitura):
Na página 129: **FAZER A LEITURA, NÃO RESPONDA NENHUMA PERGUNTA**
Nas páginas 133 até 141: **FAZER A LEITURA, NÃO RESPONDA NENHUMA PERGUNTA**

Dia 04 de Junho



HOJE É DIA DE FAZER AS ATIVIDADES DE:

INFORMÁTICA

ARTES

EDUCAÇÃO FÍSICA

INGLÊS

Atividades de Língua Portuguesa e Ensino Religioso

- Leia com atenção os textos:



Liberdade Religiosa: Um Direito de Todos

As religiões respondem a certas inquietações humanas e são consideradas verdades.

Porém, diante de tamanha diversidade, é preciso que cada religião e cada pessoa praticante desta ou daquela religião tenha seu espaço garantido e respeitado por todas as demais.

Vale lembrar que não existe maneira certa ou errada, e sim maneiras diferentes de se relacionar com o sagrado. Portanto, todos têm o direito e a liberdade de escolher e praticar a religião que melhor lhes convier.

Além disso, devemos respeitar também aqueles que optam por não seguir nenhuma religião.

O respeito e a liberdade religiosa começam dentro de cada um de nós:

- quando aceitamos o nosso jeito de ser, tentando superar limitações e aperfeiçoar qualidades;
- quando sabemos respeitar o jeito de ser e de viver das pessoas;
- quando valorizamos todos aqueles que são diferentes de nós;
- quando promovemos a paz e a fraternidade na família, na escola e nos lugares que frequentamos.

Para que a religião faça sentido na vida das pessoas. É fundamental o respeito à escolha religiosa de cada um.

Atividades

Agora, marque a resposta correta:

1. Das ideias a seguir, qual está relacionada à liberdade religiosa.

- Não temos o direito de escolher nossa religião.
- O respeito e a liberdade religiosa começam dentro de cada um de nós.
- Não devemos respeitar a opção religiosa das outras pessoas.
- Devo respeitar somente a minha religião.

2. As maneiras de se relacionar com o sagrado são:

- Erradas.
- Iguais.
- Negativas.
- Diferentes.

3. O respeito à diversidade religiosa nos permite:

- Ser preconceituoso.
- Praticar a desunião.
- Promover a paz.
- Julgar as pessoas



A Diversidade Religiosa no Brasil

Serrob

A religião ou tradição religiosa faz parte da vida de um povo.

Cultura você já deve saber, é o jeito ou o modo de ser de um povo. Em outras palavras, tudo o que o povo acredita, valoriza, respeita, transmite, ensina, canta, dança e comemora, faz parte da cultura. A cultura é um conjunto de valores materiais e espirituais que fazem parte do modo de vida de um povo ou grupo social.

O povo brasileiro é um povo culturalmente religioso. As manifestações dessa religiosidade estão por toda parte: no grande número de templos e igrejas, no comércio, na mídia, nos nomes de vilas, cidades, ruas e escolas, nas festas e feriados religiosos, nos costumes, na fala do povo, etc.

Está ficando comum em alguns países e no Brasil, as pessoas de diferentes religiões se reunirem para dialogar, e juntas pensar e planejar a construção de um mundo solidário, humano e justo.

É importante conhecer as outras religiões para respeitar e compreender as diferenças religiosas existentes no mundo.

O conhecimento da diversidade religiosa é um caminho que permite aos cidadãos superar os preconceitos e o fanatismo religioso.

Conhecer para respeitar o diferente e as diferenças é muito importante para a promoção de culturas de paz.

Atividades

Agora, marque a resposta correta:

1. O que é cultura?

- É um conjunto de materiais escolares.
- Somente os costumes indígenas.
- Preconceito e fanatismo religioso.
- A cultura é um conjunto de valores.

2. O povo brasileiro é culturalmente:


- Sem habilidade da empatia.
- Culturalmente religioso.
- Um povo sem religião.
- Uma população Budista.

3. O conhecimento da diversidade religiosa é um caminho que permite:

- Superar os preconceitos.
- A desunião.
- O cyberbullying.
- Conflitos e guerras.

- Vamos retomar o assunto sobre **Singular e Plural** na escrita das palavras.

Complete a cruzadinha com as dicas a seguir:



- Símbolo comemorativo de uma vitória que se concede ao vencedor.
- Estabelecimento que dispõe de quartos para hóspedes.
- Reunião festiva, geralmente à noite, para conversar, ouvir música, dançar etc.
- Pequeno recipiente de metal, forrado de couro, lona etc., que se usa para transportar água em viagem.
- Caixa geralmente de metal ou madeira, com tampa convexa, usada como peça de bagagem para transportar roupas, livros etc.
- Aro de metal, plástico ou tecido que se traz no dedo.
- Ave doméstica, de plumagem escura, cabeça nua, faz glu-glu e faz o maior sucesso no Natal.
- Galeria subterrânea que geralmente liga duas partes de uma autoestrada, via férrea, rua etc.
- Cada uma das partes da escada, em que se põe o pé, para subir ou descer.
- Período de folia que precede a Quarta-Feira de Cinzas, com bailes e desfiles de blocos e de escolas de samba, que tem sua origem no entrudo.

- Classifique as palavras da cruzadinha na tabela abaixo:

Palavras terminadas em U	Plural das palavras terminadas em U	Palavras terminadas em L	Plural das palavras terminadas em L

CONCLUIMOS QUE:

**As palavras terminadas em "IS" no plural são escritas com L no singular.
As palavras terminadas em U, o plural é realizado pelo acréscimo da letra "S".**

Dia 08 de Junho

Atividades de História



- Pegue o seu livro de História
- Nosso assunto será sobre: O ENCONTRO DE POVOS, na página 29. Leia e ouça a música PINDORAMA https://www.youtube.com/watch?v=O1Xa_MDDHOg
- Responda somente as perguntas 1, 2, 3 e 4 da página 30 e continue fazendo apenas sua leitura nesta página.
- Faça a leitura das páginas 31 e 32 e você aprenderá novas informações sobre os índios.

Atividades de Matemática

Responda cada desafio com bastante atenção!

Estou entre o 499 e o 501

Sou o dobro de $16 - 12$

Represento 1 dúzia

Tenho 13 unidades a mais que 628

Sou a metade de 4 dezenas

Venho depois de 699

Seis gatos juntos têm _____ patas

Sou o triplo de $50 + 50$

Sou o maior número de 3 algarismos

Sou a metade dos meses do ano



- No seu livro de Matemática : leia o texto informativo sobre Sistema Monetário, página 67 e responda a pesquisa.
- Continue seu trabalho nas páginas 90 e 91. Caso tiver dúvidas pergunte, mas não deixe de fazer.

Dia 09 de Junho

Atividades de Geografia

- Na aula passada, conhecemos como nosso país, o BRASIL, está dividido por REGIÕES.



- Hoje no livro de Geografia, observe os mapas das páginas 216, 219 e 220. Os 3 mapas do Brasil são iguais? _____
- Escreva uma diferença entre eles:

- Escreva uma semelhança entre eles:

- Faça sua leitura informativa nas páginas 221 e 222. Encontraremos informações sobre o Brasil e seus Estados. Em seguida, responda com atenção as questões.

Atividades de Língua Portuguesa

- Dia 05 de junho comemorou-se o DIA MUNDIAL DO MEIO AMBIENTE. Observe a imagem a seguir com muita atenção:



- Elabore uma frase na faixa abaixo, conscientizando as pessoas sobre a necessidade de cuidarmos do MEIO AMBIENTE. Se precisar use as palavras da imagem acima:

Atividades de Ciências



- Hoje na aula de Ciências, pegue seu livro e leia novamente o texto sobre VÍRUS, na página 139 e sobre Vacinas nas páginas 141 e 142.

Observe:



Hábitos de Higiene são muito importantes para prevenção de doenças





ALUNO (A): _____ SÉRIE: _____

PROFESSORA: _____ DATA: _____

TRABALHO DE CIÊNCIAS

NOTA

- Leia com muita atenção o texto informativo abaixo:



A primeira vacina surgiu na Inglaterra, em 1796, e foi criada por um médico chamado Edward Jenner. Ele fez vários experimentos com uma variedade mais branda da varíola e desenvolveu uma técnica que chamou de **vacina**.

A CRIAÇÃO DA VACINA



A vacina não é um remedinho como outro qualquer que tomamos quando adoecemos para ficarmos livres daquele mal. Ela é tomada antes, justamente para que a pessoa não venha a desenvolver determinadas doenças, como por exemplo a poliomielite, conhecida como paralisia infantil, a gripe, o sarampo, a varíola, o tétano e a coqueluche, dentre muitas outras.

Quando tomamos uma vacina, na verdade estamos preparando o organismo para reagir quando for infectado e combater o agente invasor (microrganismo).

Nos primeiros anos de vida, as crianças são vacinadas contra muitas doenças e anualmente, no Brasil, antes de iniciar o inverno, começam as campanhas de vacinação contra a gripe.

Atualmente estamos vivendo a pandemia do novo coronavírus, a COVID-19, uma doença infecciosa e contagiosa que se espalha rapidamente e que já causou e continua causando a morte de muitas pessoas. Todas as medidas sanitárias necessárias estão sendo tomadas desde seu surgimento, como, por exemplo, distanciamento social, uso de máscaras e lavagem das mãos constantemente. Mas só a vacinação poderá deter a pandemia.



• Respostas as questões abaixo:

1) Complete as lacunas abaixo com as palavras do quadro.

vacina - coronavírus – organismo – microrganismo - COVID-19

- a) A _____ é uma doença infectocontagiosa que se espalha rapidamente.
- b) A _____ prepara o _____ para combater o agente invasor.
- c) O vírus é um _____ que ataca nosso sistema imunológico.
- d) Atualmente vivenciamos a pandemia do novo _____.



2) Responda.



a) Onde e quando surgiu a vacina?

R _____

b) Quem a criou?

R _____

c) Quando começa a Campanha de vacinação contra a gripe aqui no Brasil?

R _____

d) Quais são as medidas sanitárias necessárias para evitar a COVID-19?

R _____

e) Do que a população precisa para deter a pandemia do novo coronavírus?

R _____



3) E você, o que está fazendo para se prevenir da Covid-19?

4) OBSERVE A IMAGEM ABAIXO E COLOQUE V PARA VERDADEIRO E F PARA FALSO:

() O CASCÃO ESTÁ LAVANDO AS MÃOS PORQUE ELE SEMPRE FAZ ISSO.

() O CASCÃO ESTÁ LAVANDO AS MÃOS PORQUE NÃO QUER FICAR DOENTE.

() A EXPRESSÃO FACIAL DO CASCÃO MOSTRA QUE ELE ESTÁ CONTENTE.

() O CASCÃO ESTÁ BRAVO PORQUE NÃO GOSTA DE ÁGUA.



5) NA IMAGEM, O CASCÃO LAVANDO AS MÃOS. LAVAR AS MÃOS DE FORMA CORRETA, UTILIZANDO SABÃO, NOS AUXILIA NA PREVENÇÃO DO CORONAVÍRUS E OUTRAS DOENÇAS.

EXPLIQUE POR QUE É IMPORTANTE A UTILIZAÇÃO DO SABÃO?

Importante!

LER PARA CONHECER


O que podemos fazer para defender o nosso planeta?




Utilizar sacolas de papel, lona ou tecido para fazer compras.




Não comprar animais ou plantas em extinção.



Molhar a escova de dente ao começar a escová-los, fechar a torneira e só abri-la novamente para enxaguar ao terminar.



Apagar a luz ao sair do ambiente.



Utilizar pilhas recarregáveis ao invés das comuns.



Molhar as plantas pela manhã ou no final da tarde somente quando necessário.




Tomar banhos rápidos.



Utilizar mais a bicicleta, cuidando da saúde e do meio ambiente.



Controlar se a geladeira está bem fechada.



Comprar ovos em embalagens de papelão.



Levar as embalagens de bebidas para serem recicladas.



Recordar sempre os três "R": Reduzir, Reutilizar, Reciclar.



Consertar as torneiras sempre que necessário



Plantar uma árvore.

A 8ª etapa está finalizada.
Esperamos que mais conhecimentos tenham sido adquiridos. Até a próxima etapa. Continue se esforçando!