



ESTADO DE SANTA CATARINA

MUNICÍPIO DE JABORÁ

SECRETARIA MUNICIPAL DE EDUCAÇÃO CULTURA E DESPORTO

ESCOLA BÁSICA MUNICIPAL ALBERTO BORDIN

7ª ETAPA DE ATIVIDADES PRESENCIAIS E/OU NÃO PRESENCIAIS

TURMA: 2º ANO

ENSINO FUNDAMENTAL



ALUNO (A): _____

PROFESSOR (A): _____

QUERIDOS ALUNOS

ESTAMOS INICIANDO A 7ª ETAPA DAS ATIVIDADES QUE PREPARAMOS COM MUITO CARINHO PARA VOCÊS.


PEDIMOS QUE REALIZEM AS ATIVIDADES COM CAPRICHOS, NÃO FAZENDO TUDO DE UMA VEZ, SEGUINDO AS DATAS QUE ESTÃO NA APOSTILA E NA SEMANA DE VIR PARA A ESCOLA TRAGAM AS APOSTILAS PARA A PROFESSORA CORRIGIR.

LEMBREM-SE QUE QUEM DEVE FAZER AS ATIVIDADES É VOCÊ (ALUNO), OS PAIS APENAS DEVEM AUXILIAR NAS DIFICULDADES.


OS LIVROS DIDÁTICOS QUE IRÃO PARA CASA DEVEM SER TRAZIDOS DE VOLTA JUNTO COM A APOSTILA E SÓ DEVEM SER REALIZADAS AS ATIVIDADES DAS PÁGINAS QUE A PROFESSORA PEDIR.

JABORÁ, 17 DE MAIO DE 2021.
SEGUNDA-FEIRA
ESCREVA SEU NOME COMPLETO:


1. COMPLETE COM AS LETRINHAS DO ALFABETO QUE ESTÃO FALTANDO.

A			D				H					M	
N			Q			T				X		Z	

AGORA ESCREVA AS VIZINHAS:

	J				S	
	N				H	
	E				X	
	A				D	
	Q				V	

2. ESCREVA OS NOMES DOS DESENHOS EM ORDEM ALFABÉTICA:



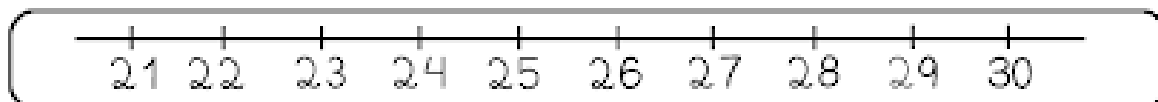
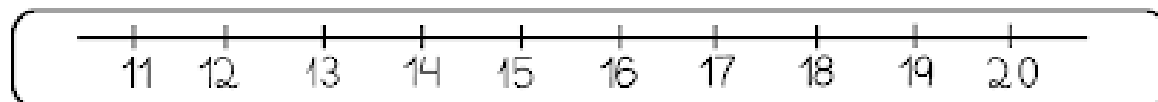
A-
B-
C-
D-
E-
F-
G-
H-
I-
J-
L-
M-







N-
O-
P-
Q-
R-
S-
T-
U-
V-
X-
Z-

JABORÁ, 18 DE MAIO DE 2021.
TERÇA-FEIRA
ESCREVA SEU NOME COMPLETO:

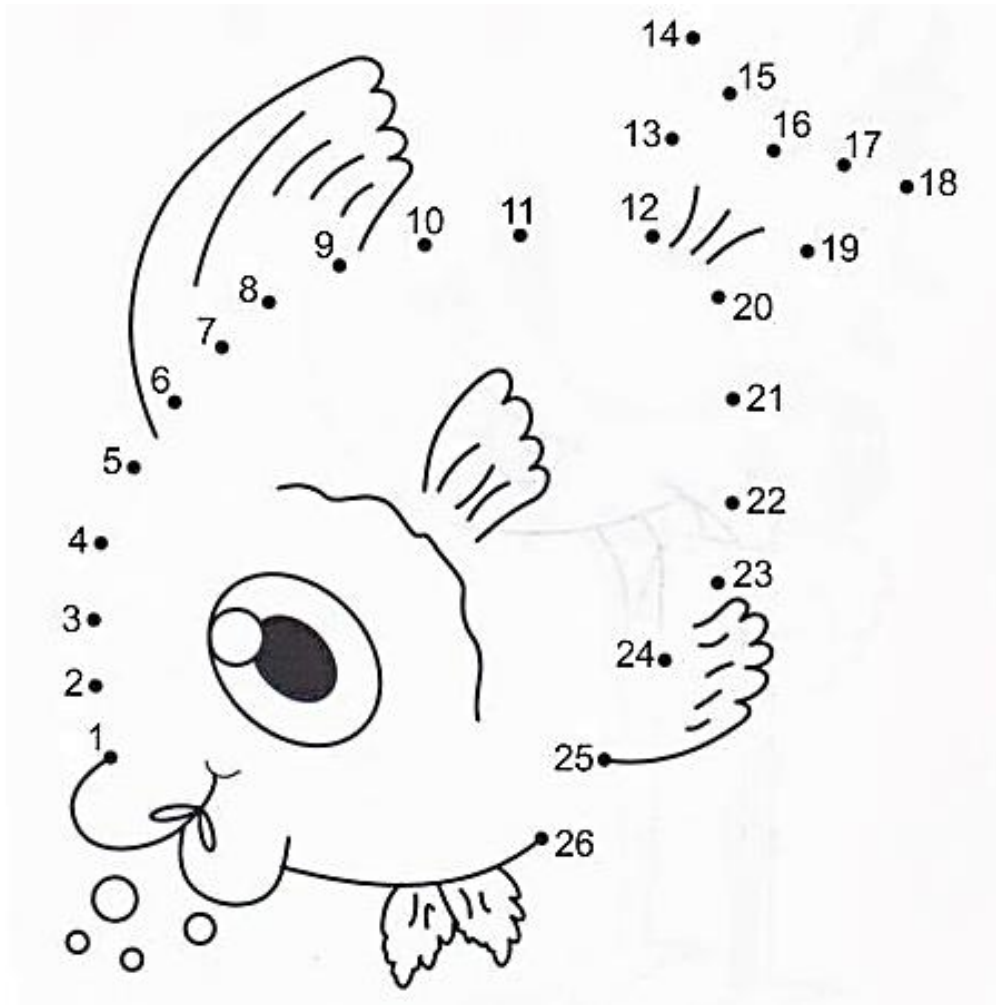
1. OBSERVE AS RÉGUAS NUMÉRICAS E COMPLETE AS SEQUÊNCIAS.

SEQUÊNCIA NUMÉRICA



 0							 7
8							 15
 10							
18							 25
 23							30

2. LIGUE OS PONTOS SEGUINDO A ORDEM CRESCENTE DOS NÚMEROS.



3. ESCREVER OS NÚMEROS ACIMA NA ORDEM.

4. COMPLETE COM OS NÚMEROS VIZINHOS.

_____ 3 _____

_____ 17 _____

_____ 27 _____

_____ 9 _____

_____ 22 _____

_____ 29 _____

_____ 12 _____

_____ 23 _____

_____ 30 _____

_____ 15 _____

_____ 25 _____

_____ 32 _____

JABORÁ, 19 DE MAIO DE 2021.
QUARTA-FEIRA
ESCREVA SEU NOME COMPLETO:

1. TEXTO PARA LER E INTERPRETAR:

NANÁ E NINA

NANÁ É A BONECA DE NINA.

NINA DÁ SOPA A NANÁ. NINA
COMPROU NANÁ NA LOJA DO
SENHOR NICO.

TODOS OS DIAS A MENINA
LEVA A BONECA PARA PASSEAR NA CASA DA VOVÓ.

VOVÓ AMA NINA E NANÁ!



Isabel Cristina S. Soares

- NANÁ É UMA:

- NINA É UMA:

- O QUE NINA DÁ A NANÁ?

- ONDE NINA COMPROU NANÁ?

- ONDE NINA LEVA NANÁ PARA PASSEAR?

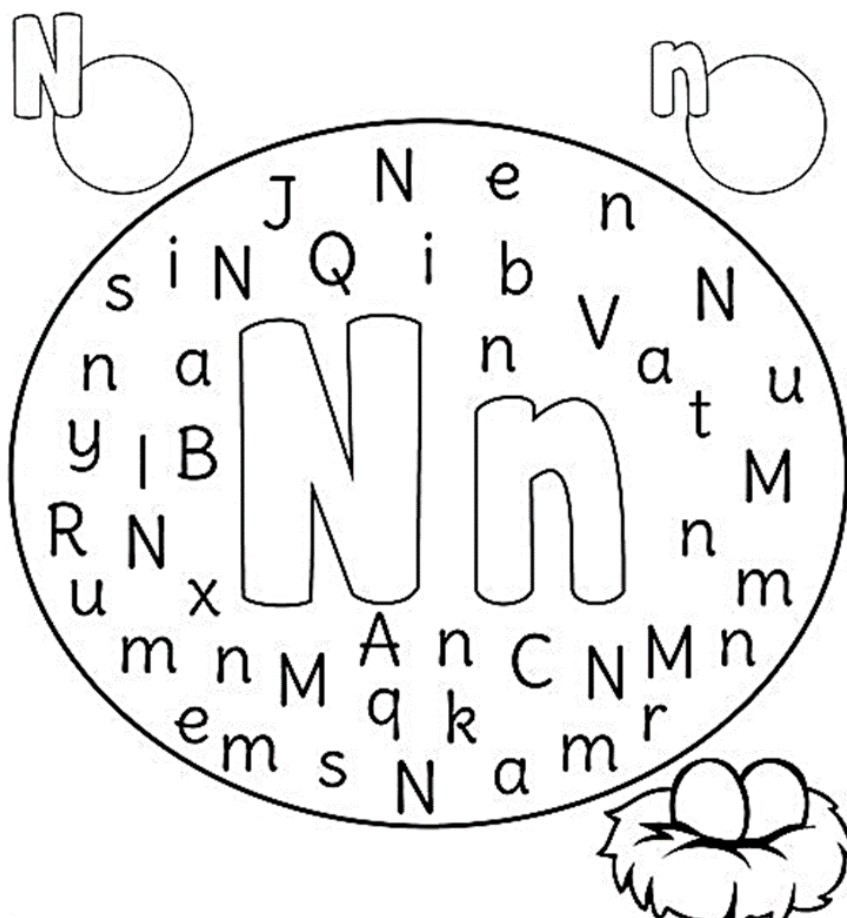
2. LIGUE A SÍLABA INICIAL DE CADA NOME:

Cloud: NA
9: NE
Nest: NI
Winter scene: NO
Ship: NU

3. FORME AS SÍLABAS COMPLETANDO AS PALAVRAS E COPIE ELAS AO LADO.

N	A	_____	_____VE	_____
	E	_____	_____VE	_____
	I	_____	_____NHO	_____
	O	_____	_____VO	_____
	U	_____	_____VEM	_____

4. CIRCULE A LETRA "N - n" E CONTE QUANTAS MAIÚSCULAS E MINÚSCULAS ENCONTROU.











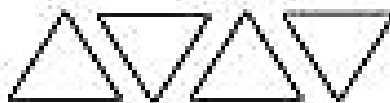













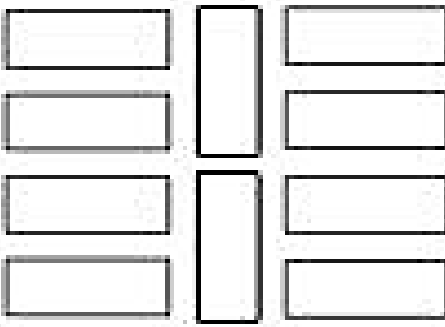

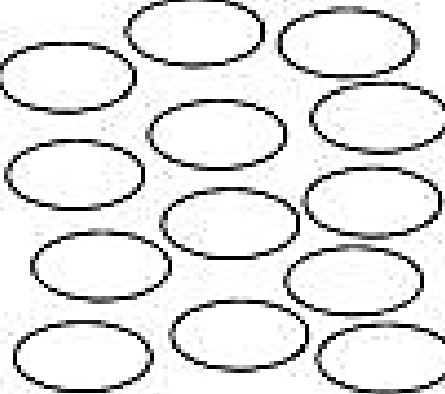



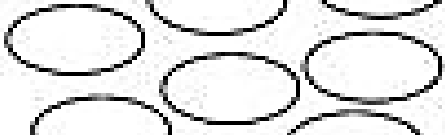







5. CIRCULE A PALAVRA DE ACORDO COM O NOME DA FIGURA.

	<p>NOME NAVALHA NAVIO</p>		<p>NAJA NARIZ NATA</p>
	<p>NOVO NOVELO NOVELA</p>		<p>NETA NEVE NENÊ</p>
	<p>NINHO NEVE NOTA</p>		<p>NAVIO NATA NOIVA</p>

JABORÁ, 20 DE MAIO DE 2021.
QUINTA-FEIRA
ESCREVA SEU NOME COMPLETO:

1. CONTE OS ELEMENTOS E PINTE O NÚMERAL CORRESPONDENTE:

2. RESOLVA AS ADIÇÕES:

D	U	D	U	D	U	D	U
7	0	6	4	2	9	5	6
+2	0	+1	4	+2	0	+3	1

D	U	D	U	D	U	D	U
4	2	7	2	3	8	6	0
+4	0	+1	0	+1	1	+1	4

3. CONTE E ESCREVA O NUMERAL NOS QUADRINHOS.

The image shows a 3x3 grid of boxes. Each box contains a set of cups and a blank space for writing the number of cups. The cups are arranged as follows:

- Top-left: 12 cups (3 rows of 4)
- Top-middle: 13 cups (3 rows of 4, with 1 cup below the first row)
- Top-right: 15 cups (3 rows of 5)
- Middle-left: 18 cups (3 rows of 6)
- Middle-middle: 10 cups (2 rows of 4, with 2 cups below the first row)
- Middle-right: 12 cups (3 rows of 4)
- Bottom-left: 15 cups (3 rows of 4, with 3 cups below the first row)
- Bottom-middle: 20 cups (4 rows of 5)
- Bottom-right: 10 cups (2 rows of 4, with 2 cups below the first row)

JABORÁ, 21 DE MAIO DE 2021.
SEXTA-FEIRA

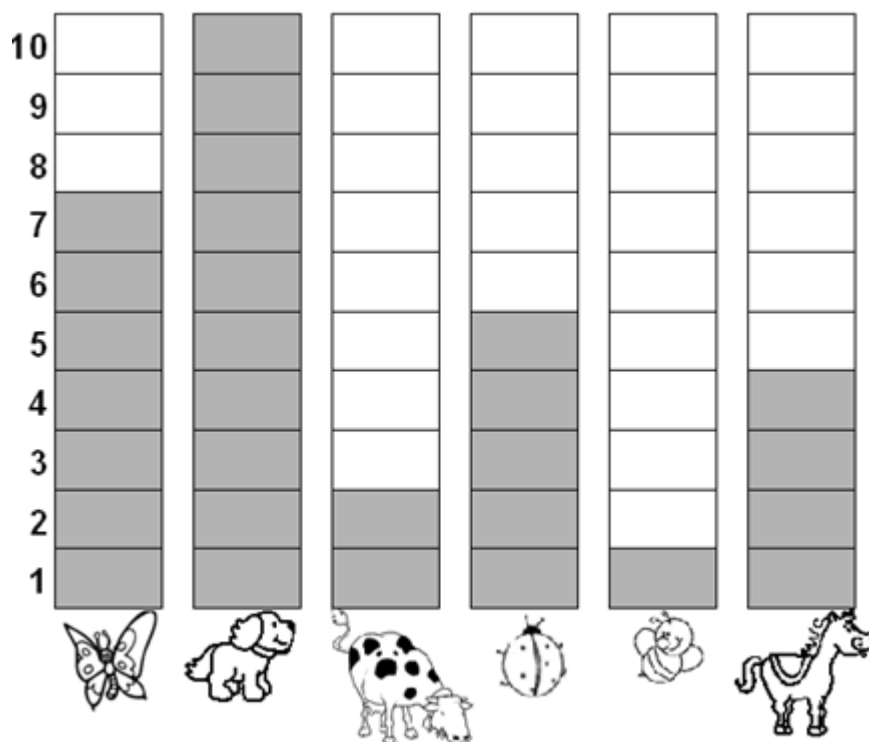
AVISO
↓

NESTE DIA VOCÊ DEVE REALIZAR AS ATIVIDADES
DE:

- EDUCAÇÃO FÍSICA
- ARTES
- INGLÊS
- INFORMÁTICA

JABORÁ, 24 DE MAIO DE 2021.
SEGUNDA-FEIRA
ESCREVA SEU NOME COMPLETO:

1. OBSERVE O GRÁFICO QUE MOSTRA O ANIMAL PREFERIDO PELOS ALUNOS DO 2º ANO:



A) QUAL FOI O ANIMAL MAIS VOTADO?

B) QUAL FOI O ANIMAL MENOS VOTADO?

C) QUANTOS VOTOS TEVE O CAVALO?


D) QUAL ANIMAL TEVE 7 VOTOS?

E) QUANTOS ANIMAIS SÃO PREFERIDOS PELOS ALUNOS DE 2º ANO?

F) QUANTOS VOTOS TEVE ENTRE TODOS OS ANIMAIS?

E) QUAL O ANIMAL QUE VOCÊ ESCOLHERIA?

F) DESENHE O ANIMAL QUE VOCÊ ESCOLHEU.



2. RESOLVA AS SUBTRAÇÕES:

$8 - 6 = \square$

$8 - 2 = \square$

$5 - 4 = \square$

$4 - 3 = \square$

$3 - 3 = \square$

$7 - 2 = \square$

$7 - 3 = \square$

$6 - 4 = \square$

$9 - 4 = \square$

$5 - 0 = \square$

3. LIGUE AS SUBTRAÇÕES COM OS RESULTADOS CORRETOS.

$2 - 1 = \underline{\hspace{2cm}}$

$6 - 3 = \underline{\hspace{2cm}}$

$7 - 5 = \underline{\hspace{2cm}}$

$8 - 4 = \underline{\hspace{2cm}}$

$9 - 1 = \underline{\hspace{2cm}}$

$10 - 5 = \underline{\hspace{2cm}}$

$5 - 5 = \underline{\hspace{2cm}}$




JABORÁ, 25 DE MAIO DE 2021.
TERÇA-FEIRA
ESCREVA SEU NOME COMPLETO:

1. COM AJUDA DE UM ADULTO LEIA O TEXTO.

SERÁ QUE VOCÊ CONSEGUE FALAR O TRAVA-LÍNGUA A SEGUIR?

O TEMPO PERGUNTOU AO TEMPO
QUANTO TEMPO O TEMPO TEM.
O TEMPO RESPONDEU AO TEMPO
QUE O TEMPO TEM TANTO TEMPO
QUANTO TEMPO O TEMPO TEM.











CIRCULE TODAS AS LETRAS T QUE APARECEM NO TRAVA-LÍNGUA.

ESCREVA NO QUADRO A PALAVRA QUE MAIS APARECE:

2. COMPLETE COM O SOM INICIAL

TA TE TI TO TU

 __ MATE	 __ LA	 __ RTARUGA
 __ JOLO	 __ XI	 __ MADA
 __ SOURA	 __ NTA	 __ BARÃO

3. PROCURE NO CAÇA-PALAVRAS O NOME DE CADA DESENHO ABAIXO.












A	F	T	O	C	A	E	I	E	R	Z	E
B	O	F	P	T	O	M	A	T	E	D	A
U	B	P	T	E	L	E	F	O	N	E	L
P	O	Ç	O	F	E	R	A	I	N	H	X
Q	J	T	Á	B	U	A	O	S	A	Q	C
X	E	R	O	T	A	P	E	T	E	C	A
I	J	P	T	I	J	O	L	O	E	D	H
Z	C	O	R	Á	D	T	A	T	U	T	Q
U	V	I	Ã	O	W	C	A	R	É	A	R
C	R	T	U	C	A	N	O	Q	N	T	E



4. ESCREVA OS NOMES QUE ENCONTROU NO CAÇA-PALAVRAS.

5. COMPLETE AS PALAVRAS COM T OU D

DESENHO	PALAVRA	T	D	COPIE
	__ELEFONE	<input type="checkbox"/>	<input type="checkbox"/>	
	ALMOFA__A	<input type="checkbox"/>	<input type="checkbox"/>	
	__ESOURA	<input type="checkbox"/>	<input type="checkbox"/>	
	CAPACE__E	<input type="checkbox"/>	<input type="checkbox"/>	
	CA__EIRA	<input type="checkbox"/>	<input type="checkbox"/>	
	ESPAN__ALHO	<input type="checkbox"/>	<input type="checkbox"/>	
	PRA__ELEIRA	<input type="checkbox"/>	<input type="checkbox"/>	
	CA__ARÇO	<input type="checkbox"/>	<input type="checkbox"/>	
	__AMAN__UÁ	<input type="checkbox"/>	<input type="checkbox"/>	

JABORÁ, 26 DE MAIO DE 2021.
QUARTA-FEIRA
ESCREVA SEU NOME COMPLETO:

1. PINTE AS DIFERENTES PROFISSÕES E COM AJUDA DE UM ADULTO
ESCREVA OS NOMES DE CADA UMA.



2. OBSERVE AS PROFISSÕES ABAIXO, NUMERE CONFORME O OBJETO QUE TEM A VER COM O TRABALHO:

1



PROFESSOR

2



COSTUREIRA

3




SORVETEIRO

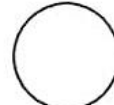
4




AGRICULTOR





TESOURA



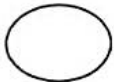
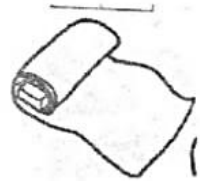
TAÇA



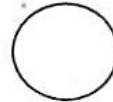

CADERNO




TECIDO




LINHA




CANETA




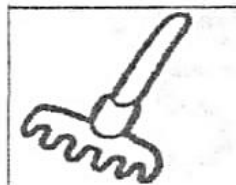
SORVETE



REGADOR



RASTEL



ROUPAS



3. VAMOS RESOLVER OS PROBLEMINHAS.

MÔNICA LEU 5 GIBIS PELA MANHÃ E 7 GIBIS A TARDE. QUANTOS GIBIS ELA LEU NO TOTAL?



CEBOLINHA E MÔNICA ESTÃO BRINCANDO JUNTOS. ELE TROUXE 3 CARRINHOS E ELA 2 BONECAS. QUANTOS BRINQUEDOS ELAS TEM JUNTOS?



MÔNICA FOTOGRAFOU 5 BORBOLETAS GRANDES E CHEGARAM MAIS 4 BORBOLETAS PEQUENAS. QUANTAS BORBOLETAS VOAM AO TODO?



MAGALI ADORA SORVETE. ELA PEDIU 3 BOLAS NO SABOR DE CHOCOLATE E 4 DE MORANGO. QUANTAS BOLAS DE SORVETE ELA CHUPOU ?





JABORÁ, 27 DE MAIO DE 2021.
QUINTA-FEIRA
ESCREVA SEU NOME COMPLETO:

1. FORME FRASES:

O  DE CASA É VERDE.



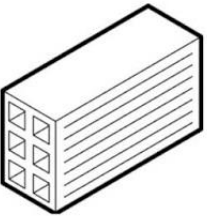






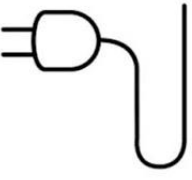
MAMÃE USOU A  ONTEM .

NO ZOOLOGICO TEM  E  .

NA LOJA TEM   .

VOVÓ FEZ UMA  DE  .

2. CIRCULE A PALAVRA DE ACORDO COM O NOME DE CADA FIGURA.

	TAPETE TOPADA TOMATE		TIPO TOPA TOCA
	TOPETE TIJOLO TITIO		TOPADA TOMADA TORNEIRA
	TATU TAPA TACA		TOTÓ TOMA TOURO
	TOMADA TUTU TAPETE		TOURO TEIA TELA
	TOALHA TUCANO TELA		TOMADA TOCA TOPADA

3. ESCREVA 2 PALAVRAS QUE INICIAM COM :

TA: _____

TI: _____

TO: _____

TE: _____

TU: _____

JABORÁ, 28 DE MAIO DE 2021.
SEXTA-FEIRA

AVISO
↓

NESTE DIA VOCÊ DEVE REALIZAR AS ATIVIDADES
DE:

- EDUCAÇÃO FÍSICA
- ARTES
- INGLÊS
- INFORMÁTICA