



ESTADO DE SANTA CATARINA  
MUNICÍPIO DE JABORÁ  
SECRETARIA MUNICIPAL DE EDUCAÇÃO CULTURA E DESPORTO  
ESCOLA BÁSICA MUNICIPAL ALBERTO BORDIN

## **2º ETAPA DE ATIVIDADES PRESENCIAIS E/OU NÃO PRESENCIAIS**

**2º ANO - ENSINO FUNDAMENTAL**


**PROFESSORAS:**

**GEIZA NOEMI TEDESCO**

**JANETE CARMEN BAZZO TONIELLO**

**MARLOVA GAVAZZONI**

**MARILIA PAGANINI**



ALUNO (A): \_\_\_\_\_

## QUERIDO ALUNO:

ESTAMOS MUITO ANCIOSAS PARA TE VER E A ESCOLA ESTÁ TODA PREPARADA PARA A TUA CHEGADA.

ESTAMOS INICIANDO A ETAPA 2 DE NOSSAS ATIVIDADES E É MUITO IMPORTANTE SUA DEDICAÇÃO PARA QUE SEU APRENDIZADO SEJA COMPLETO, PARA ISSO, SIGA AS ORIENTAÇÕES:

### LEMBRE SEMPRE:

- ✓ ORGANIZE SEU ESPAÇO: ESCOLHA UM LUGAR CALMO E LIMPO PARA ESTUDAR.
- ✓ FAÇA PAUSAS! NÃO FAÇA AS ATIVIDADES COM PRESSA. CONCENTRE-SE E FAÇA NO SEU RITMO, COM CAPRICHOS.
- ✓ AS ATIVIDADES REMOTAS DEVEM SER FEITAS CONFORME AS DATAS. NÃO FAÇA TUDO DE UMA VEZ!
- ✓ PEÇA AUXÍLIO DE SEUS PAIS E FAMILIARES QUANDO SURGIREM DÚVIDAS, ELES TERÃO O APOIO ON-LINE DA ESCOLA.
- ✓ AO TERMINAR CERTIFIQUE-SE DE QUE REALIZOU TODAS AS ATIVIDADES.
- ✓ A APOSTILA DE ATIVIDADES REMOTAS DEVE RETORNAR À ESCOLA JUNTO COM O ALUNO PARA CORREÇÕES E ESTUDO;

JABORÁ, 08 DE MARÇO DE 2021.  
SEGUNDA-FEIRA  
ESCREVA SEU NOME COMPLETO:

---

1. LEIA O TEXTO E RESOLVA AS ATIVIDADES ABAIXO:

### BETO, O BOM DE BOLA



PAULO, BETO E RENATO VÃO JOGAR BOLA.  
BETO É O GOLEADOR DO TIME.  
PAULO JOGA A BOLA PARA RENATO.  
BETO PEDE A RENATO:  
— AQUI, RENATO!  
A BOLA CAI NO PÉ DE BETO.  
BETO PÕE A BOLA NA REDE E FAZ UM BELO GOL.

*Graça Boquet*

A. QUEM VAI JOGAR BOLA?

---

B. DAS TRÊS CRIANÇAS, O GOLEADOR É:

PAULO.

BETO.

RENATO.

C. ONDE CAIU A BOLA QUE RENATO JOGOU?

NO PÉ DE PAULO.

NO PÉ DE BETO.

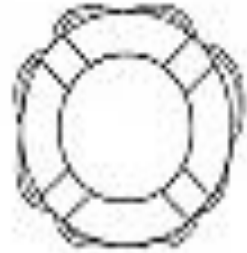
2. COMPLETE AS PALAVRAS COM AS SÍLABAS BA, BA, BI, BO OU BU.



\_\_\_NANA



\_\_\_LA



\_\_\_IA



\_\_\_I



\_\_\_NECA



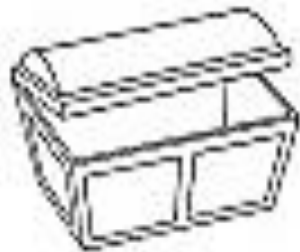
\_\_\_NÉ



\_\_\_LDE



\_\_\_LA



\_\_\_Ú



\_\_\_LO

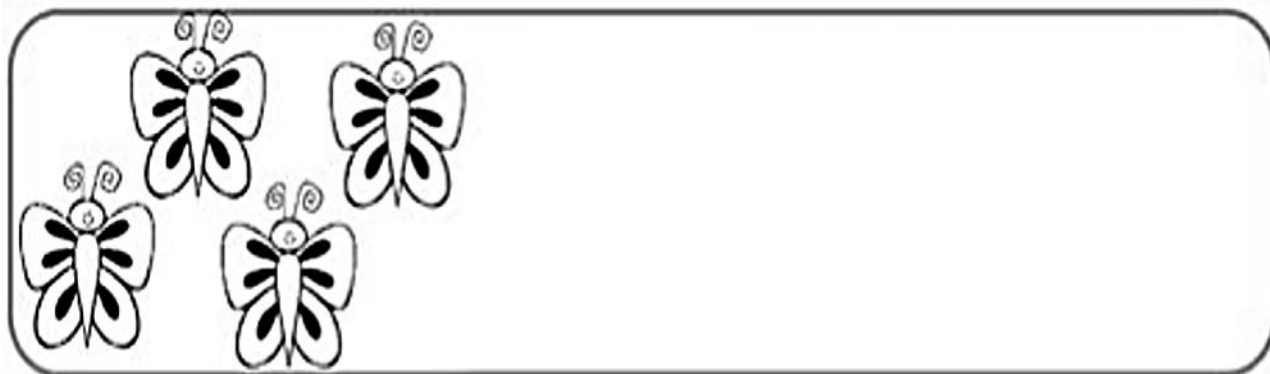


\_\_\_LÃO



\_\_\_LE


3. UMA **DEZENA** CORRESPONDE A **10 UNIDADES**.  
COMPLETE O RETÂNGULO ABAIXO ATÉ CHEGAR 10  
UNIDADES (**1 DEZENA**).



A. QUANTAS UNIDADES FALTAM PARA COMPLETAR  
**1 DEZENA**? REGISTRE O NÚMERO.



B. A METADE DE **1 DEZENA** É **MEIA DEZENA** QUE SÃO  
**5 UNIDADES**. CIRCULE A METADE DOS ELEMENTOS.



JABORÁ, 09 DE MARÇO DE 2021.  
TERÇA-FEIRA  
ESCREVA SEU NOME COMPLETO:

1. RESOLVA AS OPERAÇÕES COMEÇANDO SEMPRE PELAS UNIDADES.



$$\begin{array}{r} \text{DU} \\ 12 \\ + 34 \\ \hline 46 \\ \hline \end{array}$$

$$\begin{array}{r} \text{DU} \\ 21 \\ + 43 \\ \hline \\ \hline \end{array}$$

$$\begin{array}{r} \text{DU} \\ 52 \\ + 13 \\ \hline \\ \hline \end{array}$$

$$\begin{array}{r} \text{DU} \\ 30 \\ + 26 \\ \hline \\ \hline \end{array}$$

$$\begin{array}{r} \text{DU} \\ 41 \\ + 16 \\ \hline \\ \hline \end{array}$$

$$\begin{array}{r} \text{DU} \\ 33 \\ + 22 \\ \hline \\ \hline \end{array}$$

$$\begin{array}{r} \text{DU} \\ 14 \\ + 61 \\ \hline \\ \hline \end{array}$$

$$\begin{array}{r} \text{DU} \\ 51 \\ + 25 \\ \hline \\ \hline \end{array}$$

$$\begin{array}{r} \text{DU} \\ 15 \\ + 52 \\ \hline \\ \hline \end{array}$$

2. ESCREVA O NOME DOS NÚMEROS:

21 \_\_\_\_\_

11 \_\_\_\_\_

06 \_\_\_\_\_

25 \_\_\_\_\_

19 \_\_\_\_\_

02 \_\_\_\_\_

18 \_\_\_\_\_

3. RESOLVA AS ATIVIDADES ABAIXO ENVOLVENDO A LETRINHA B:

# CACA-PALAVRAS


F	D	L	O	P							
O	G	T	D								
D	A	B	R								
B	A	E	H	R							
O	I	B	X	T							
T	E	Ê	N	Y							
A	A	O	J	C	O	T	I	R	B		
I	B	O	C	A	Z	U	C	S	G	O	
A	P	Y	A	O	B	O	L	A	X	B	L
X	A	B	A	X	O	N	T	M	L	K	O
N	B	A	L	A	I	X	O	M	X	R	Y

**BOTA, BALA, BOLA, BOCA, BOI,  
ABA, BEBÊ, BOLO**

COMPLETE AS PALAVRAS COM A SÍLABA QUE FALTA:



\_\_\_ LA



\_\_\_ CA



\_\_\_ LE




\_\_\_ LA

JABORÁ, 10 DE MARÇO DE 2021.  
QUARTA-FEIRA  
ESCREVA SEU NOME COMPLETO:

---

1. ESCREVA NOVAS PALAVRAS COM B NOS QUADROS ABAIXO E PINTE O DESENHO.



### LISTA DE PALAVRAS





2. ORDENE AS SÍLABAS E ESCREVA AS PALAVRAS.

BRI TO CA

---

NE BO CA

---

SA BLU

---

A BO RA BÓ

---

TA BA TA

---

CO BI

---

NA BA NA

---

DA BI BE

---

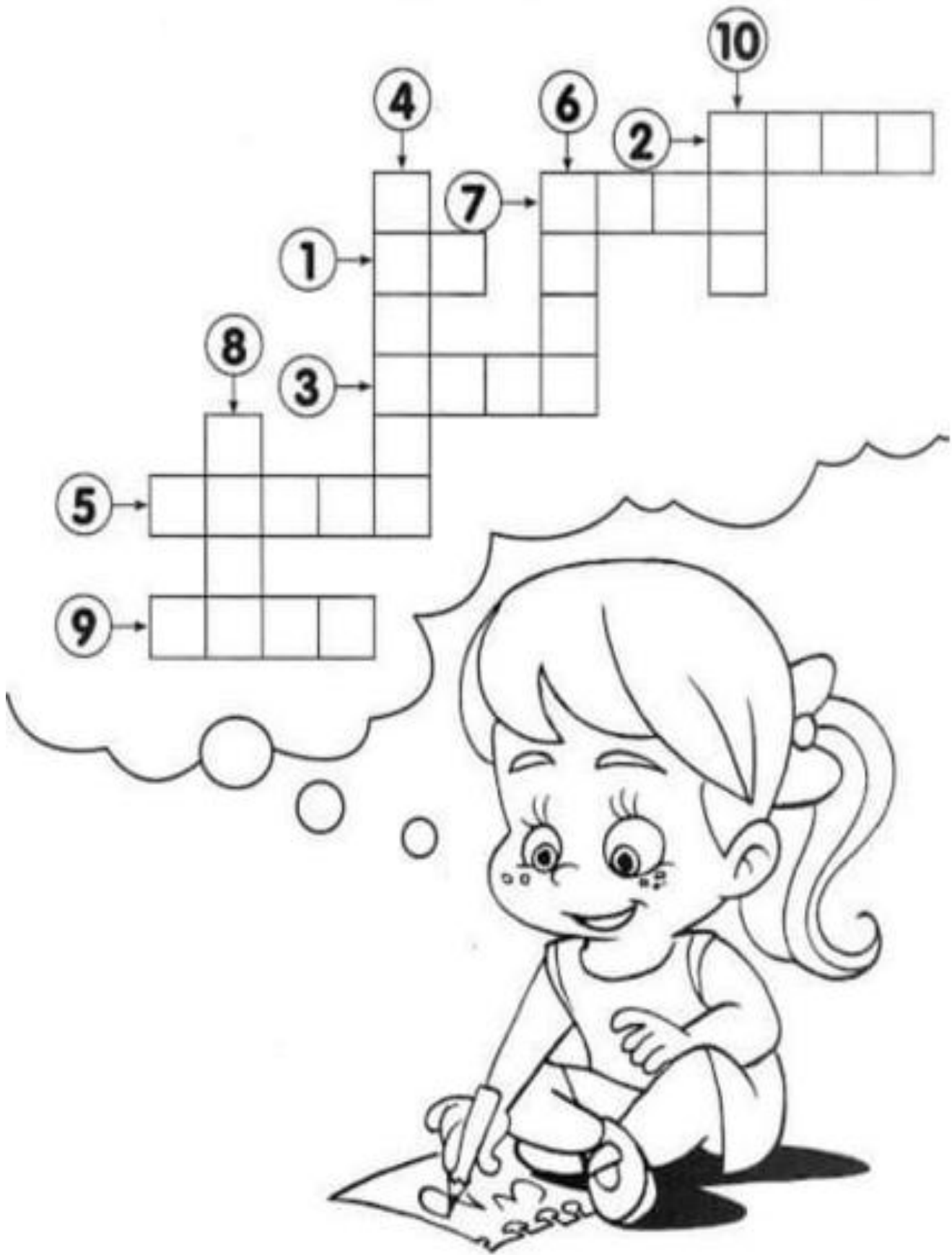
BE CA LO

---

GO DE BI

---

3. COMPLETE A CRUZADINHA ESCRIVENDO OS NUMERAIS POR EXTENSO.



JABORÁ, 11 DE MARÇO DE 2021.  
QUINTA-FEIRA  
ESCREVA SEU NOME COMPLETO:

1. RESOLVA OS PROBLEMAS E REPRESENTE COM DESENHOS:

RITA TINHA 10 LÁPIS, MAS PERDEU 3. QUANTOS RESTARAM?



SEU JOÃO LEVOU 9 BALÕES PARA VENDER NA PRAÇA. NO MEIO DO CAMINHO 2 ESTOURARAM. QUANTOS BALÕES SOBRARAM?



A TURMA DO 1º ANO TEM 15 MENINOS. MAS HOJE, 5 FALTARAM. QUANTOS MENINOS FORAM PARA A ESCOLA?



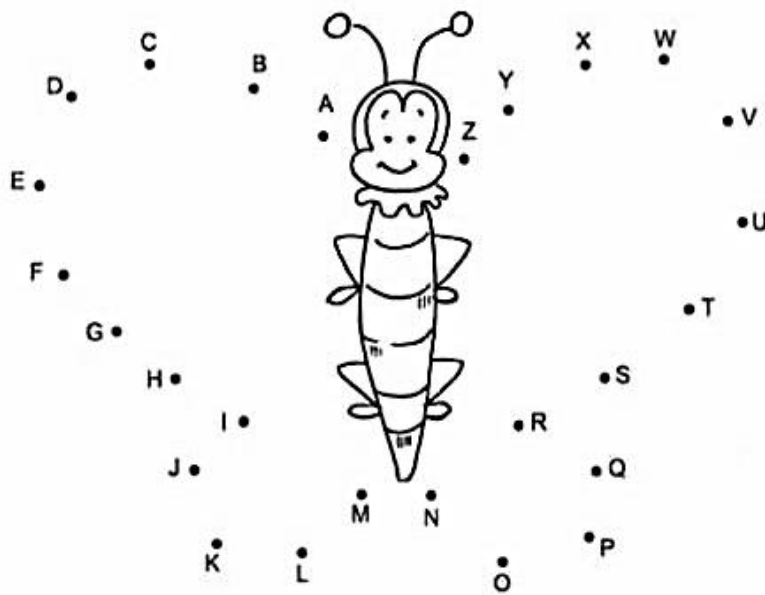
TIAGO COMProu 6 BRIGADEIROS. ELE JÁ COMEU 4. QUANTOS BRIGADEIROS AINDA RESTAM?



2. COM BASE NA SEQUÊNCIA DO ALFABETO, ESCREVA A LETRA QUE VEM ANTES E A QUE VEM DEPOIS DE:

<input type="text"/> B <input type="text"/>	<input type="text"/> D <input type="text"/>	<input type="text"/> F <input type="text"/>	<input type="text"/> I <input type="text"/>
<input type="text"/> K <input type="text"/>	<input type="text"/> M <input type="text"/>	<input type="text"/> O <input type="text"/>	<input type="text"/> Q <input type="text"/>
<input type="text"/> S <input type="text"/>	<input type="text"/> U <input type="text"/>	<input type="text"/> W <input type="text"/>	<input type="text"/> Y <input type="text"/>

3. LIGUE OS PONTOS, SEGUINDO A ORDEM DO ALFABETO, E FORME UMA BELA FIGURA.



4. QUAIS AS LETRAS QUE ESTÃO FORA DA ORDEM ALFABÉTICA? CIRCULE-AS.

A	B	C	D	E	F	G	H	I	J	K	L	M	N	O	P	Q	R	S	T	U	V	W	X	Y	Z
---	---	---	---	---	---	---	---	---	---	---	---	---	---	---	---	---	---	---	---	---	---	---	---	---	---

5. COLOQUE OS NOMES DESTA LISTA EM ORDEM ALFABÉTICA.




---



---



---

JABORÁ, 12 DE MARÇO DE 2021.  
SEXTA-FEIRA  
ESCREVA SEU NOME COMPLETO:

---

AVISO  
↓

NESTE DIA VOCÊ DEVE REALIZAR AS ATIVIDADES DE:

- EDUCAÇÃO FÍSICA
- ARTES
- INGLÊS
- INFORMÁTICA

JABORÁ, 15 DE MARÇO DE 2021.

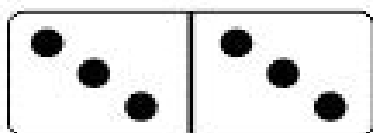
SEGUNDA-FEIRA

ESCREVA SEU NOME COMPLETO:

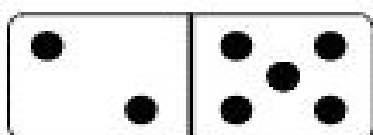
1. RECORTE OS RESULTADOS QUE ESTÃO NO FINAL DA APOSTILA E COLE SOBRE AS ADIÇÕES PARA DESCOBRIR O DESENHO.

$4 + 3$	$10 + 4$	$6 + 6$	$3 + 5$
$15 + 2$	$2 + 7$	$9 + 2$	$17 + 3$
$7 + 8$	$2 + 1$	$4 + 2$	$5 + 5$

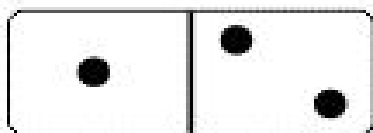
2. COMPLETE A ADIÇÃO E ENCONTRE O RESULTADO



$$3 + 3 = 6$$




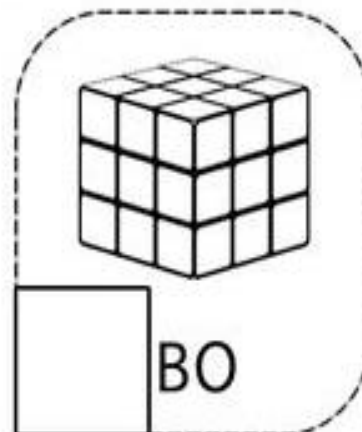

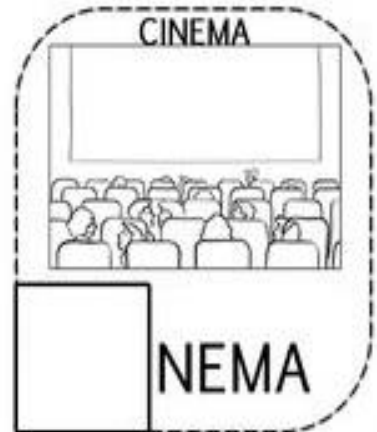
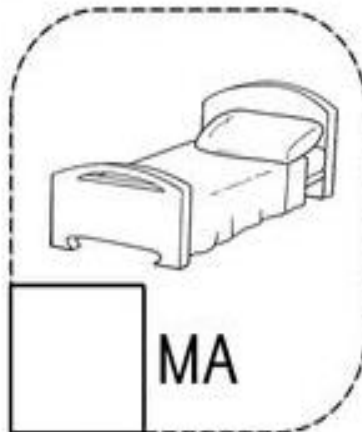


$$\underline{\quad} + \underline{\quad} = \underline{\quad}$$



$$\underline{\quad} + \underline{\quad} = \underline{\quad}$$

3. COMPLETE COM A SÍLABA INICIAL DE CADA PALAVRA:

CA CE CI CO CU



JABORÁ, 16 DE MARÇO DE 2021.  
TERÇA-FEIRA  
ESCREVA SEU NOME COMPLETO:

---

## VAMOS LER O TEXTO:

MINHA MORADA, MEU LAR

ISABEL CRISTINA S. SOARES

DE TODO TIPO DE CASA  
DA MAIS RICA A MODESTA  
DA SIMPLES E GRANDIOSA  
OU AQUELA DA FLORESTA!

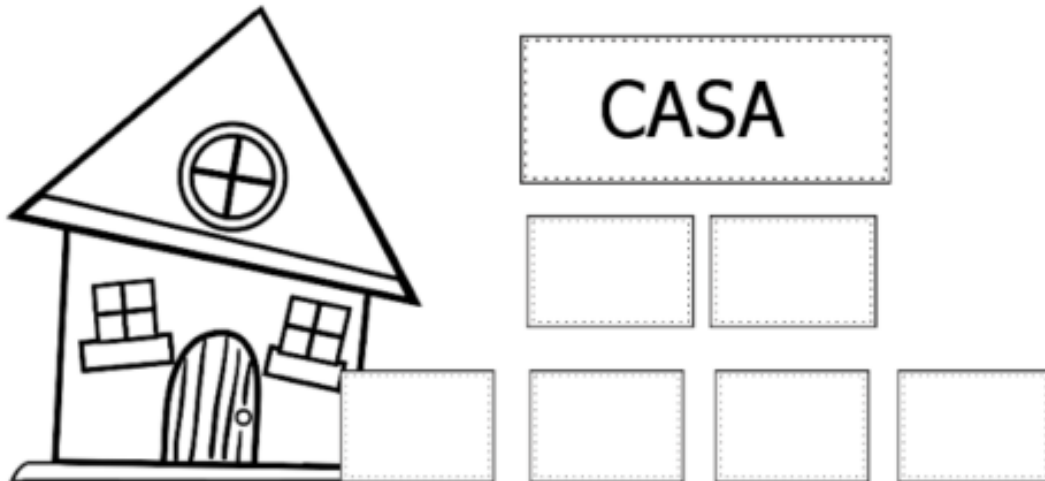
NÃO HÁ GENTE QUE NÃO QUEIRA  
NA SUA CASA ESTAR  
POIS ALI RESIDE O AMOR  
QUE EXISTE EM CADA LAR!

PODE SER AQUI  
EM PARIS OU EM VENEZA  
POIS, NO FINAL DO DIA  
NOSSO LAR, NOSSA RIQUEZA!





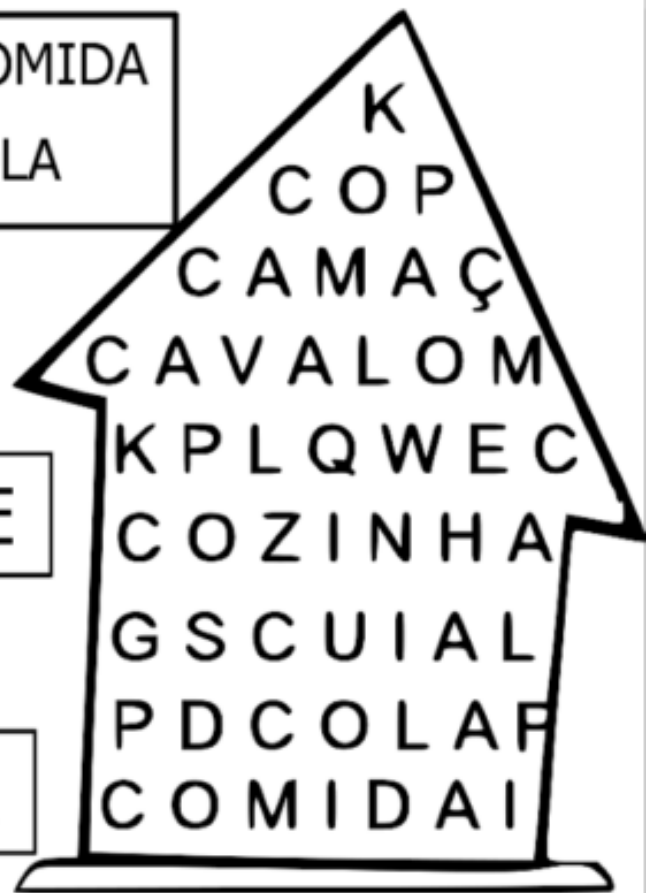
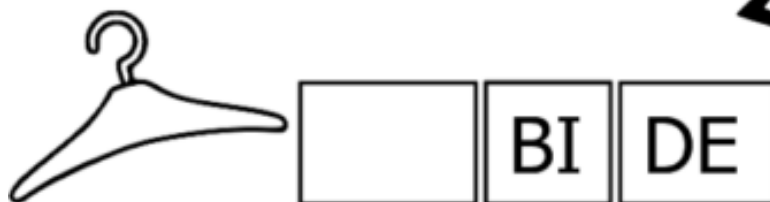
1 - OBSERVE A PALAVRA ABAIXO E SIGA O DIAGRAMA:



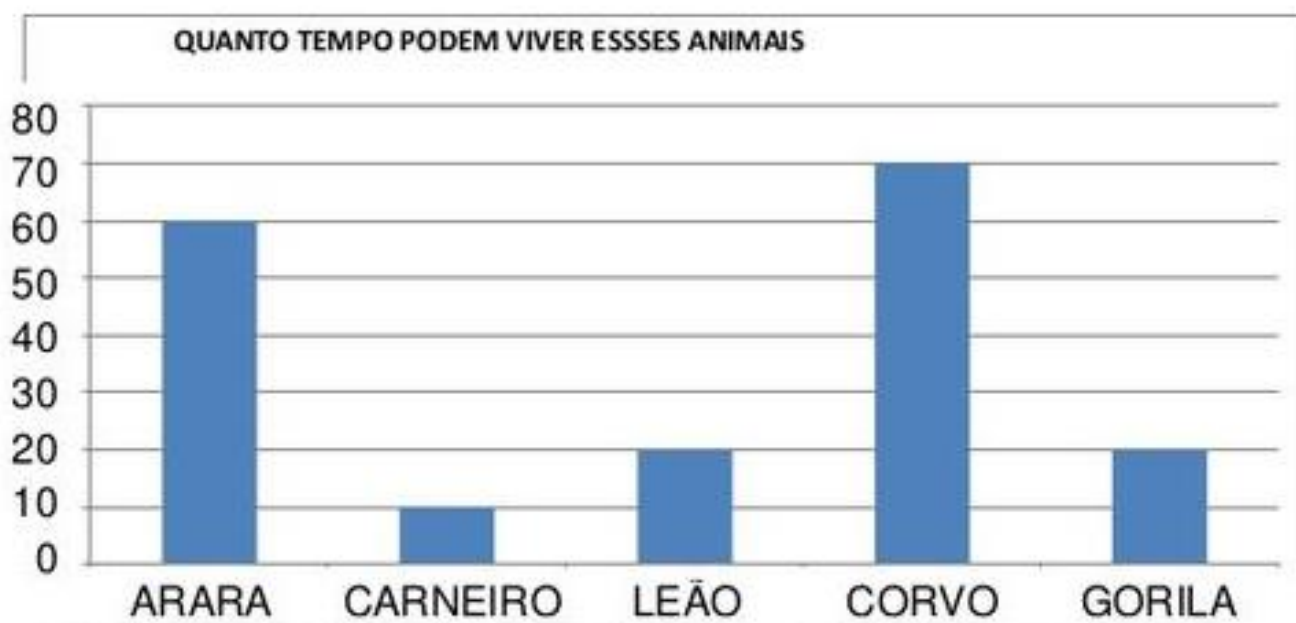
2 - ENCONTRE AS PALAVRAS EM DESTAQUE.

CUIA – COZINHA – COMIDA  
CAMA – CAVALO – COLA

3 - COMPLETE OS NOMES:



4. VEJA O GRÁFICO QUE A PROFESSORA DO SEGUNDO ANO APRESENTOU A TURMA:



FONTE: [HTTP://WWW.CURIOSIDADES10.COM/ANIMAIS/TEMPO\\_DE\\_VIDA\\_DOS\\_ANIMAIS.HTML](http://www.curiosidades10.com/animais/tempo_de_vida_dos_animais.html)

AGORA, RESPONDA:

a) QUAL ANIMAL VIVE MAIS TEMPO? \_\_\_\_\_

b) QUAL O ANIMAL QUE VIVE MENOS TEMPO?  
\_\_\_\_\_

c) O GORILA VIVE QUANTOS ANOS? \_\_\_\_\_

d) QUANTOS ANOS O CORVO VIVE MAIS QUE O LEÃO? \_\_\_\_\_


JABORÁ, 17 DE MARÇO DE 2021.

QUARTA-FEIRA


ESCREVA SEU NOME COMPLETO:

---


1- CONTE E ENCONTRE O NUMERAL:



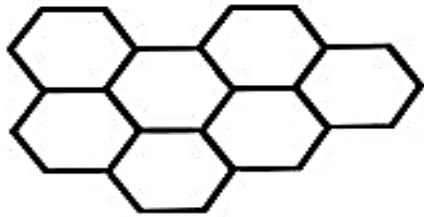
5 3 7




5 9 1




2 4 6



3 7 4

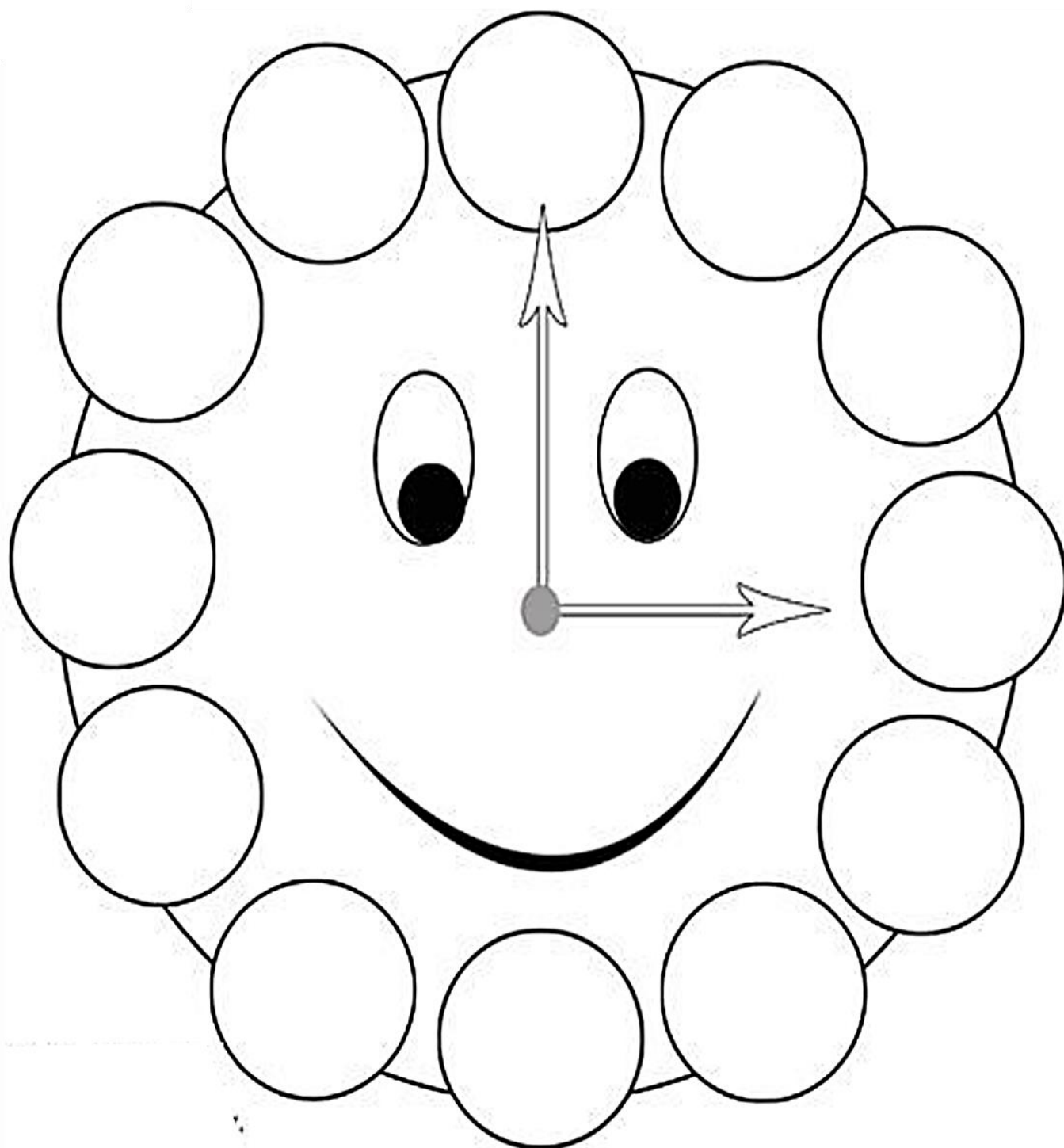


9 1 8




9 5 8

2. RECORTE OS NÚMEROS QUE ESTÃO NO FINAL DA APOSTILA E COLE NO RELÓGIO NA ORDEM CORRETA.



# LETRA, SÍLABA, PALAVRA

3. SEPRE AS PALAVRAS EM LETRAS E SÍLABAS



a) CAJU

□	□	□	□
□		□	

b) CAMISA

□	□	□	□	□	□
□		□		□	

c) ELEFANTE

□	□	□	□	□	□	□	□
□		□		□		□	

d) BANANADA

□	□	□	□	□	□	□	□
□		□		□		□	

4. DESEMBARALHE AS LETRAS E FORME PALAVRAS. DEPOIS, SEPRE AS SÍLABAS.

Nome de flor	
A	R
S	O

Nome de animal		
O	A	V
L	A	C

Nome de fruta		
X	A	B
A	I	C

\_\_\_\_\_

□	□
---	---

\_\_\_\_\_

□	□	□
---	---	---

\_\_\_\_\_

□	□	□	□
---	---	---	---

4. FORME PALAVRAS JUNTANDO DUAS OU MAIS DESTAS SÍLABAS.

CA	TO	ES
BO	DA	NE
MA	VA	LA
JA	LO	CO

\_\_\_\_\_

\_\_\_\_\_

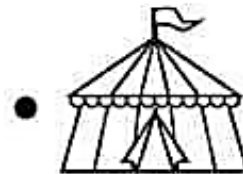
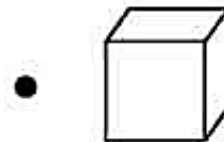
\_\_\_\_\_

JABORÁ, 18 DE MARÇO DE 2021.

QUINTA-FEIRA

ESCREVA SEU NOME COMPLETO:

1. LIGUE CADA SÍLABA COM O DESENHO:



2. ESCREVA OS NOMES DOS DESENHOS DA ATIVIDADE ANTERIOR.

---

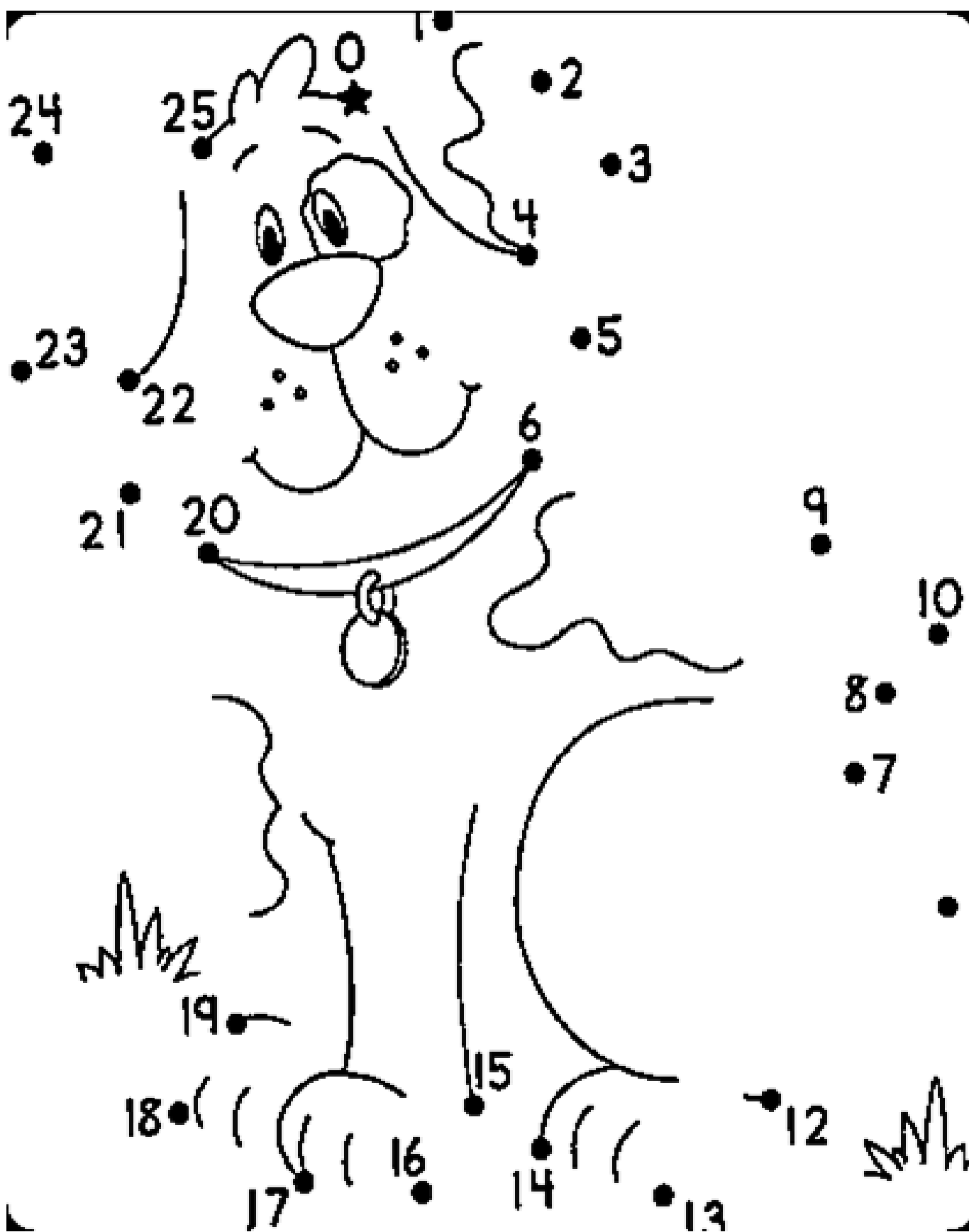
---

---

---

---

3. LIGUE OS NÚMEROS DO 1 AO 24 E PINTE O DESENHO QUE VOCÊ FORMOU COM CAPRICHOS:



JABORÁ, 19 DE MARÇO DE 2021.  
SEXTA-FEIRA  
ESCREVA SEU NOME COMPLETO:

---

AVISO  
↓

NESTE DIA VOCÊ DEVE REALIZAR AS ATIVIDADES DE:

- EDUCAÇÃO FÍSICA
- ARTES
- INGLÊS
- INFORMÁTICA